

رشته : انسانی		سوالات درس: ریاضی و آمار ۳
پایه دوازدهم دوره دوم متوسطه		مدت امتحان : ۱۰ دقیقه
منبع دانلود : قلم چی		برگزار شده در : لرستان

راهنمای تصحیح

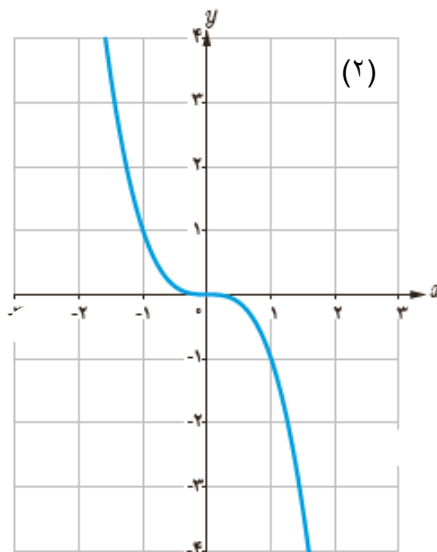
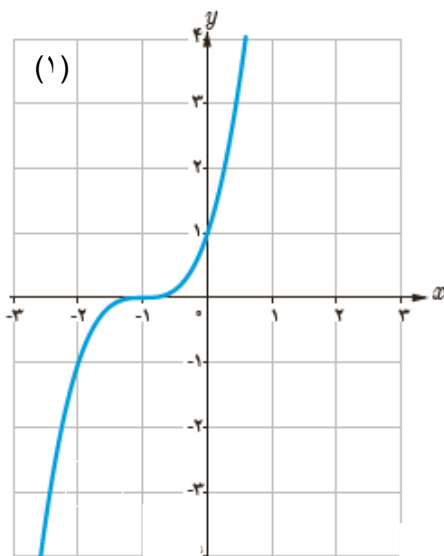
بارم	شماره	درستی یا نادرستی عبارت‌های زیر را مشخص کنید.
۱	۱	<p>الف) تابع <math>f(x) = \frac{1}{4}x^3 - 2x + 1</math> یک چند جمله‌ای از درجه ۳ است.</p> <p>ب) تابع <math>y = x^3</math> در دامنه‌اش نزولی است.</p> <p>ج) برد تابع <math>y = kf(x)</math> با برد تابع <math>y = f(x)</math> یکسان می‌باشد.</p> <p>د) تابع تانژانت در دامنه‌اش صعودی است.</p> <p><b>پاسخ:</b></p> <p>الف) درست ب: نادرست ج) نادرست د) درست هر مورد ۰/۲۵ صفحات: ۱، ۷، ۱۵ و ۴۱</p>
۱	۲	<p>در جاهای خالی عبارت ریاضی مناسب را انتخاب کنید.</p> <p>الف) نمودار تابع <math>g(x) = x^2</math> در بازه <math>(0, 1)</math>، ..... از نمودار تابع <math>f(x) = x^3</math> قرار دارد. (پایین تر - بالاتر)</p> <p>ب) دامنه تابع <math>f(x) = x^3</math> برابر ..... است. <math>(0, +\infty)</math>، <math>R</math></p> <p>ج) اگر <math>f = \{(5, 6), (6, 8)\}</math> باشد، حاصل <math>f^{-1}(6)</math> برابر ..... است. <math>(8, 5)</math></p> <p>د) باقی مانده تقسیم عبارت <math>6 + 5x - 2x^2</math> بر <math>x - 2</math> برابر ..... است. <math>(x - 3, 0)</math></p> <p><b>پاسخ:</b></p> <p>الف) بالاتر ب: <math>R</math> ج) ۵ د) ۰ هر مورد ۰/۲۵ صفحات: ۴، ۲۴ و ۵۰</p>

به کمک نمودار تابع  $f(x) = x^3$ ، ضابطه هر تابع را به نمودار آن نظیر کنید.

۰/۵

ب)  $f(x) = -x^3$

الف)  $f(x) = (x + 1)^3$



پاسخ:

الف) (۱)      ب) (۲)      هر مورد ۰/۲۵      صفحه: ۵

اگر تابع  $f(x) = x - 2$  و  $g(x) = x^2 - 1$  دامنه و ضابطه تابع  $g \circ f$  را به دست آورید.

۱/۵

پاسخ:

دامنه:  $R$       ضابطه:  $(x - 2)^2 - 1$       هر مورد ۰/۷۵      صفحه: ۱۴

تابع  $f(x) = x^2 - 2x + 2$  به یک به یک نیست. با محدود کردن دامنه آن تابعی یک به یک بسازید و ضابطه وارون آن را به دست آورید.

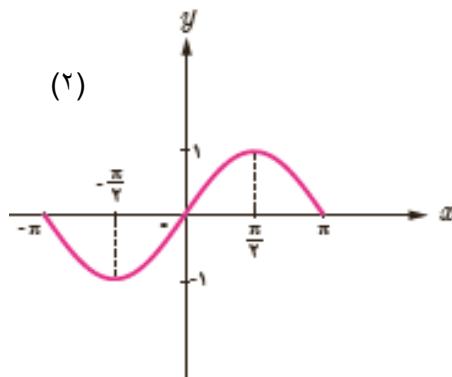
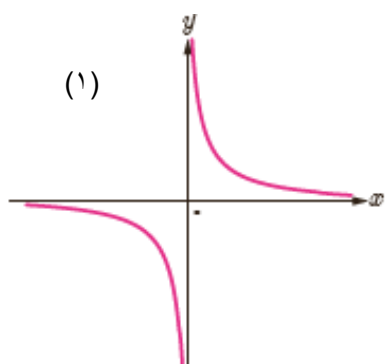
پاسخ:

بازه  $[1, +\infty)$ ، ضابطه وارون  $k(x) = \sqrt{x - 1} + 1$  هر مورد ۰/۷۵      صفحه: ۲۷

۱/۵

۵

هر کدام از تابع‌های زیر در چه بازه‌هایی اکیداً صعودی و در چه بازه‌هایی اکیداً نزولی هستند؟



پاسخ:

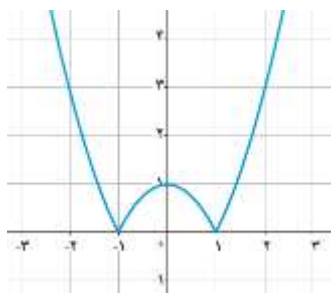
(۱): در فاصله‌های  $(-\infty, 0)$  و  $(0, +\infty)$  نزولی است. ۰/۵

(۲): در فاصله‌های  $[-\pi, -\frac{\pi}{4}]$  و  $[\frac{\pi}{4}, \pi]$  نزولی است و در فاصله  $[-\frac{\pi}{4}, \frac{\pi}{4}]$  صعودی است ۰/۵ صفحه: ۸

نمودار تابع  $f(x) = |x^2 - 1|$  را رسم کنید و بازه‌هایی که این تابع در آنها یک به یک و نزولی است را مشخص کنید.

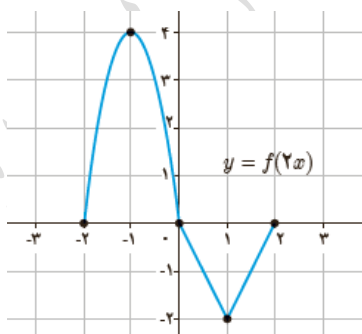
پاسخ:

رسم: ۰/۵، در بازه‌های  $[-\infty, -1]$  و  $[0, 1]$  نزولی و یک به یک است. ۰/۵ صفحه: ۱۷



نمودار تابع  $f(x)$  با دامنه  $[-4, 4]$  به صورت زیر داده شده است، با استفاده از آن نمودار تابع  $y = f(2x)$  را رسم کنید.

پاسخ:



صفحه: ۲۰

رسم کامل: ۱/۵

دور تناوب و مقادیر ماکزیمم و مینیمم تابع  $f(x) = 3\sin(2x) - 2$  را مشخص کنید.

پاسخ:

$$T = \frac{2\pi}{b} = \frac{2\pi}{2} = \pi$$

$$\text{ماکزیمم: } \max = |3| - 2 = 1$$

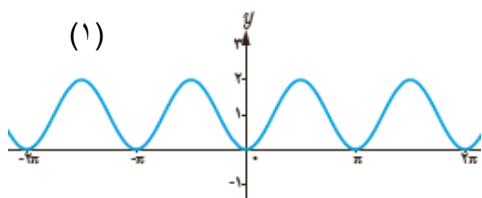
$$\text{مینیمم: } \max = -|3| - 2 = -5$$

۱/۵

۹

هر یک از توابع داده شده را به نمودارهای زیر نظیر کنید.

$$f(x) = 1 - \cos 2x \quad \text{ب)}$$



(۱)

$$f(x) = 2 - \cos \frac{1}{2}x \quad \text{الف)}$$



(۲)

۰/۵

۱۰

پاسخ:

الف: (۲) ب: (۱) هر مورد ۰/۲۵ صفحه ۴۰

مقدار  $\sin 15^\circ$  را بیابید.

پاسخ:

$$\cos 30^\circ = 1 - 2\sin^2 15^\circ \Rightarrow \frac{\sqrt{3}}{2} = 1 - 2\sin^2 15^\circ \Rightarrow \sin^2 15^\circ = \frac{\frac{\sqrt{3}}{2} - 1}{-2} = \frac{2 - \sqrt{3}}{4}$$

$$\Rightarrow \sin 15^\circ = \pm \frac{\sqrt{2 - \sqrt{3}}}{2} \Rightarrow \sin 15^\circ = \frac{\sqrt{2 - \sqrt{3}}}{2}$$

۱/۵

۱۱

صفحه ۴۳

معادله  $2\sin 3x - \sqrt{2} = 0$  را حل کنید.

پاسخ:

$$2\sin 3x = \sqrt{2} \Rightarrow \sin 3x = \frac{\sqrt{2}}{2} = \sin \frac{\pi}{4}$$

$$\Rightarrow \begin{cases} 3x = 2k\pi + \frac{\pi}{4} \Rightarrow x = \frac{2k\pi}{3} + \frac{\pi}{12}, k \in \mathbb{Z} \\ 3x = (2k+1)\pi - \frac{\pi}{4} \Rightarrow x = \frac{(2k+1)\pi}{3} - \frac{\pi}{12}, k \in \mathbb{Z} \end{cases}$$

۱/۵

۱۲

صفحه ۴۷

فرض کنید  $\cos \alpha = \frac{5}{13}$  و  $\alpha$  زاویه ای حاده باشد، مقدار  $\sin 2\alpha$  را به دست آورید.

پاسخ:

$$\sin^2 \alpha \stackrel{\text{ب}}{=} 1 - \cos^2 \alpha = 1 - \left(\frac{5}{13}\right)^2 \stackrel{\text{ب}}{=} \frac{144}{169} \Rightarrow \sin \alpha \stackrel{\text{ب}}{=} \frac{12}{13}$$

$$\sin 2\alpha = 2 \sin \alpha \cos \alpha \stackrel{\text{ب}}{=} 2 \times \frac{12}{13} \times \frac{5}{13} = \frac{120}{169}$$

صفحه ۴۸

۱۳

حدود زیر را در صورت وجود حساب کنید.

$$\lim_{x \rightarrow -\frac{1}{3}} \frac{[x]}{|3x+1|} \quad (\text{د}) \quad \lim_{x \rightarrow 1} \frac{x - \sqrt{x}}{x^2 + x - 2} \quad (\text{ج}) \quad \lim_{x \rightarrow -3} \frac{x^2 - 9}{x^2 + 3x} \quad (\text{ب}) \quad \lim_{x \rightarrow 2} \frac{5x}{\sqrt{x^2 + 1}} \quad (\text{الف})$$

پاسخ:

$$\text{الف) } \lim_{x \rightarrow 2} \frac{5x}{\sqrt{x^2 + 1}} \stackrel{\text{ب}}{=} \frac{5(2)}{\sqrt{2^2 + 1}} \stackrel{\text{ب}}{=} \frac{10}{\sqrt{5}} \times \frac{\sqrt{5}}{\sqrt{5}} = \frac{10\sqrt{5}}{5} = 2\sqrt{5}$$

$$\text{ب) } \lim_{x \rightarrow -3} \frac{x^2 - 9}{x^2 + 3x} \stackrel{\text{ب}}{=} \frac{0}{0} \quad \text{مبهم}$$

$$\lim_{x \rightarrow -3} \frac{x^2 - 9}{x^2 + 3x} \stackrel{\text{ب}}{=} \lim_{x \rightarrow -3} \frac{(x-3)(x+3)}{x(x+3)} = \lim_{x \rightarrow -3} \frac{(x-3)}{x} \stackrel{\text{ب}}{=} \frac{(-3-3)}{-3} = 2$$

$$\text{ج) } \lim_{x \rightarrow 1} \frac{x - \sqrt{x}}{x^2 + x - 2} = \frac{1 - \sqrt{1}}{2 - 2} = \frac{0}{0} \quad \text{مبهم}$$

$$\lim_{x \rightarrow 1} \frac{x - \sqrt{x}}{x^2 + x - 2} = \lim_{x \rightarrow 1} \frac{(x - \sqrt{x})(x + \sqrt{x})}{(x^2 + x - 2)(x + \sqrt{x})} \stackrel{\text{ب}}{=} \lim_{x \rightarrow 1} \frac{(x^2 - x)}{(x+2)(x-1)(x+\sqrt{x})} =$$

$$\lim_{x \rightarrow 1} \frac{x(x-1)}{(x+2)(x-1)(x+\sqrt{x})} = \lim_{x \rightarrow 1} \frac{x}{(x+2)(x+\sqrt{x})} \stackrel{\text{ب}}{=} \lim_{x \rightarrow 1} \frac{1}{(1+2)(1+\sqrt{1})} = \frac{1}{6}$$

د) مخارج در نزدیکی  $-\frac{1}{3}$  با مقادیر مثبت به صفر میل می کند و حد صورت هم در  $-\frac{1}{3}$  برابر  $-1$  است (۰/۵) بنابراین:

$$\lim_{x \rightarrow -\frac{1}{3}} \frac{[x]}{|3x+1|} \stackrel{\text{ب}}{=} -\infty$$

صفحه ۵۳

۱۴

۳

حدود زیر را محاسبه کنید.

الف)  $\lim_{x \rightarrow -\infty} \frac{-2}{x^2}$

پاسخ:

ب)  $\lim_{x \rightarrow +\infty} \frac{2x + 1}{x^3 + 2}$

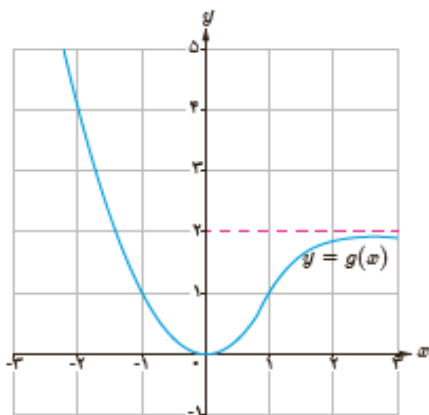
۱/۵

الف)  $\lim_{x \rightarrow -\infty} \frac{-2}{x^2} \underset{0/25}{=} \frac{-2}{+\infty} \underset{0/25}{=} 0$

ب)  $\lim_{x \rightarrow +\infty} \frac{2x + 1}{x^3 + 2} \underset{0/25}{=} \lim_{x \rightarrow +\infty} \frac{x(2 + \frac{1}{x})}{x^3(1 + \frac{2}{x^3})} \underset{0/25}{=} \lim_{x \rightarrow +\infty} \frac{2}{x^2} \underset{0/25}{=} 0$

۱۵

با توجه به نمودار تابع  $g(x)$  طرف دوم تساوی‌های داده شده زیر را بنویسید.



الف)  $\lim_{x \rightarrow -\infty} g(x) = \dots$

ب)  $\lim_{x \rightarrow +\infty} g(x) = \dots$

۰/۵

۱۶

پاسخ:

الف)  $+\infty$     ۰/۲۵

ب)  $2$     ۰/۲۵

صفحه ۶۲

۲۰

در نهایت، نظر همکاران محترم صائب است.