


نمونه سوال امتحانی		سوالات درس: ریاضی
پایه دوم ابتدایی		مدت امتحان: 45 دقیقه
منبع دانلود: قلم چی		برگزار شده در: تهران

ردیف	سوالات		
۱	<p>پسر گلم، به رقم و حروف بنویس .</p> <p>۵۳۸ : -----</p> <p>۹۷۱ : -----</p> <p>دویست و چهل : -----</p> <p>ششصد و شش : -----</p>		
۲	<p>پسر بادقتم، الگوهای زیر را ادامه بده .</p> <p>۶۵۷-۶۵۵-۶۵۳-.....-.....-.....</p> <p>۳۲۰-۳۲۳-۳۲۶-.....-.....-.....</p> <p>۱-۲-۴-۷-۱۱-.....-.....-.....</p> <p>دویست وهفتاد - دویست و هشتاد - دویست و نود -</p>		
۳	<p>پسر پرتلاشم، با کارت های زیر چند عدد سه رقمی می توانی بسازی ؟</p> <p>الف (آن ها را بنویس .</p> <p>  </p> <p>-----</p> <p>ب) بزرگ ترین عدد کدام است ؟</p> <p>-----</p> <p>پ) کوچک ترین عدد کدام است ؟</p> <p>-----</p> <p>ت) در کدام عدد ها رقم یکان از صدگان بزرگ تر است ؟</p> <p>-----</p>		
۴	<p>پسر خوبم، عدد های زیر را با سکه نمایش بده سپس در جدول ارزش مکانی قرار بده .</p> <table border="1" style="width: 100%; height: 150px;"> <tr> <td style="width: 50%; text-align: center; vertical-align: middle;">۴۲۵</td> <td style="width: 50%; text-align: center; vertical-align: middle;">۳۵۴</td> </tr> </table>	۴۲۵	۳۵۴
۴۲۵	۳۵۴		
۵	<p>پسر پرتوانم، شباهت و تفاوت های شکل های زیر را بنویس .</p> <p> </p> <p>----- : شباهت</p> <p>----- : تفاوت</p>		

پسر خوبم، ساعت های زیر را کامل کن .



یک ربع بعد از ۲ و نیم را نشان بده .



ساعت چنده ؟ -----



۳:۴۰ را نشان بده .

۶

پسر عزیزم، شکل های خواسته شده را رسم کن ، سپس برای هر کدام یک خط تقارن بکش .

مربع	پنج ضلعی	مثلث	دایره
------	----------	------	-------

۷

اگر از ۷۵ سیب زرد و قرمز جعبه ای ، ۵۲ سیب زرد باشد ، چند سیب قرمز است ؟ (با کمک شکل)

۸

مدرسه برای شب یلدا ، به دانش آموزان سرمدای هدیه داد ، اگر ۳۲ تا از آن ها زرد و ۴۹ تا از آن ها بنفش باشد :

الف) کلاً چند سرمدای خریده شده ؟ (با روش فرایندی)

ب) اگر ۷۳ تا از آن ها را به بچه ها هدیه داده باشند ،

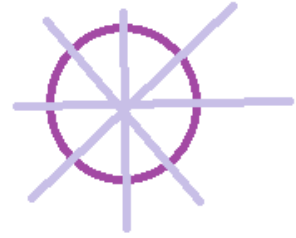
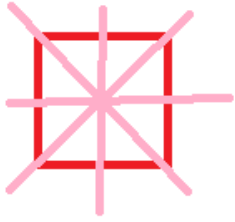
چند تا سرمدای باقی مانده ؟ (با روش فرایندی)

۹

نمونه سوال امتحانی		سوالات درس: ریاضی
پایه دوم ابتدایی		مدت امتحان: 45 دقیقه
منبع دانلود: قلم چی		برگزار شده در: تهران

ردیف	سؤالات	نوع									
	پانصد و سی و هشت نهصد و هفتاد و یک ۲۴۰ ۶۰۶	۱									
	پسر بادقتم، الگوهای زیر را ادامه بده . ۶۵۱-۶۴۹-۶۴۷ ۳۲۹-۳۳۲-۳۳۴ ۱۶-۲۲-۲۹ سیصد-سیصد و ده - سیصد و بیست	۲									
	الف) ۹۵۰-۵۹۰-۵۰۹-۹۰۵ ب) ۹۵۰ پ) ۵۰۹ ت) ۵۰۹	۳									
	نمایش سکه ها به هر طریقی که دانش آموز انجام دهد و از سکه های ۵۰۰-۲۵۰-۱۰۰-۵۰-۲۵-۱۰-۵-۲-۱ ریالی استفاده کند درست است <table border="1" style="margin-left: auto; margin-right: auto;"> <tr> <td>۳</td> <td>۲</td> <td>۱</td> </tr> <tr> <td>۴</td> <td>۲</td> <td>۵</td> </tr> <tr> <td>۳</td> <td>۵</td> <td>۴</td> </tr> </table>	۳	۲	۱	۴	۲	۵	۳	۵	۴	۴
۳	۲	۱									
۴	۲	۵									
۳	۵	۴									
	شباهت: هر دو ۴ ضلع و گوشه دارند . تفاوت: در مربع هر ۴ ضلع هم اندازه است اما در مستطیل ضلع های رو به رو هم اندازه اند (همه ی ضلع ها هم اندازه نیستند) .	۵									
	عقربه ی بزرگ روی ۳ عقربه ی کوچک روی ۸ . ۱:۲۰ عقربه ی بزرگ روی ۲ عقربه ی کوچک روی ۹ .	۶									

برای هر شکل کشیدن یک خط تقارن کافی است .



۷



۲۳

۸

(الف)

$$\begin{array}{r}
 \textcircled{32} \\
 + \textcircled{49} \\
 \hline
 72 \\
 + 9 \\
 \hline
 81
 \end{array}
 \rightarrow 9 \text{ و } 9$$

(ب)

$$\begin{array}{r}
 \textcircled{81} \\
 - \textcircled{73} \\
 \hline
 11 \\
 - 3 \\
 \hline
 8
 \end{array}
 \rightarrow 3 \text{ و } 3$$

۹

۸ سرمرادی باقی ماند. کلا ۸۱ سرمرادی خریدند.