



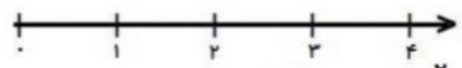


نمونه سوال امتحانی	 مینابورپلاس آکادمی ریاضی	سوالات درس: ریاضی
پایه سوم ابتدایی		مدت امتحان: 60 دقیقه
منبع دانلود: قلم چی		برگزار شده در: تهران

ردیف	سوالات												
1	<p>با توجه به شکل مقابل عدد را در جدول ارزش مکانی دهید و آن را به حروف بنویسید.</p> 												
2	<p>مغازه داری یک شیشه شیر را 200 تومان میخرد و 230 تومان میفروشد.</p> <p>الف) سود هر شیشه شیر را حساب کنید.</p> <p>ب) 5 شیشه شیر چقدر سود دارد؟</p> <table border="1" data-bbox="279 1052 1332 1243"> <tr> <td>شیشه شیر</td> <td></td> <td></td> <td></td> <td></td> <td></td> </tr> <tr> <td>سود</td> <td></td> <td></td> <td></td> <td></td> <td></td> </tr> </table>	شیشه شیر						سود					
شیشه شیر													
سود													
3	<p>جاهای خالی را با عدد مناسب و شکل ها را با رنگ کردن کامل کنید</p> <div style="display: flex; justify-content: space-around;"> <div data-bbox="183 1321 790 1579">  <p>..... واحد و واحد</p> </div> <div data-bbox="805 1321 1412 1579">  <p>..... واحد و واحد</p> </div> </div> <div style="display: flex; justify-content: space-around; margin-top: 10px;"> <div data-bbox="183 1590 790 1792">  <p>2 واحد و $\frac{4}{6}$ واحد</p> </div> <div data-bbox="805 1590 1412 1792">  <p>$\frac{2}{3}$ واحد بعد از عدد 3</p> </div> </div>												
4	<p>اعداد زیر را به صورت گسترده بنویسید.</p> <p>2149 =</p> <p>9083 =</p>												

جای خالی را کامل کنید.

۵

* ۳۵۶ سانتی متر یعنی متر و سانتی متر.

* ۷ کیلومتر یعنی متر.

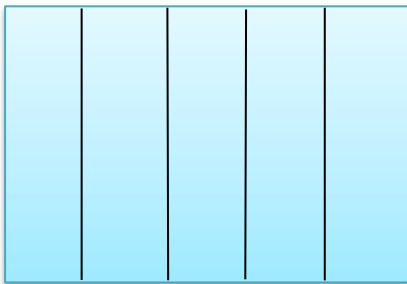
* یک ربع ساعت ساعت است .

* ۹ متر و ۱۵ سانتی متر یعنی سانتی متر.

* ۶۹۰۰ گرم برابر است با کیلوگرم و گرم.

با کامل کردن شکل نشان دهید که $\frac{2}{5} = \frac{4}{10}$ است.

۶



مقایسه کنید < = >

۷

1 $\frac{7}{7}$

۴ واحد و $\frac{1}{2}$ واحد ۵ واحد و $\frac{1}{5}$ واحد

خمس ثلث

$\frac{2}{5}$ $\frac{2}{7}$

$\frac{3}{10}$ $\frac{6}{10}$

زاویه و خط تقارن شکل زیر را مشخص کنید. و بنوسید زاویه مربع چه نوع زاویه ای است؟

۹



۳ دلار کشوری معادل ۳۰۰ تومان است، ۵ دلار چند تومان ارزش دارد؟

۱۰

دلار					
تومان					



اداره ی کل آموزش و پرورش شهر تهران
 اداره ی آموزش و پرورش شهر تهران منطقه ۷ تهران
 دبستان غیر دولتی پسرانه سرای دانش واحد شریعتی
کلید سؤالات ترم نوبت اول سال تحصیلی ۱۴۰۲-۱۴۰۱

نام درس: ریاضی
 نام دبیر:
 تاریخ امتحان: ۱۷ / ۱۰ / ۱۴۰۱
 ساعت امتحان:
 صبح / عصر
 مدت امتحان: دقیقه

محل مهر یا امضاء مدیر

راهنمای تصحیح

ردیف

یکان	دهگان	صدگان	هزارگان
۰	۴	۳	۱

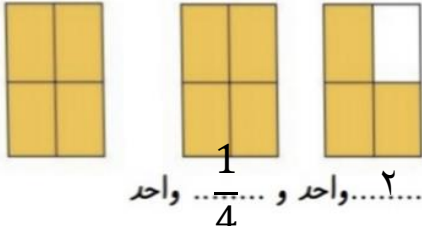
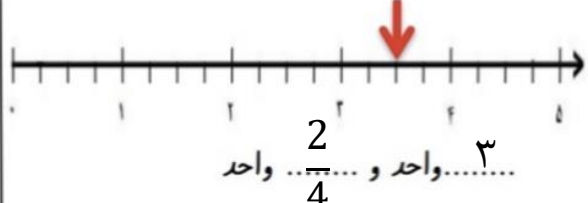

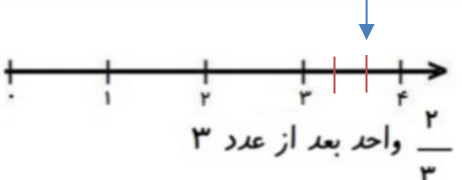
۱

هزار و سیصد و چهل

شیشه شیر	۱	۲	۳	۴	۵
سود	۳۰	۶۰	۹۰	۱۲۰	۱۵۰

۲

سود هر بسته ۳۰ تومن است

۳

$$2149 = 2000 + 100 + 40 + 9$$

$$9083 = 9000 + 80 + 3$$

۴

❖ ۳ متر و ۵۶ سانتی متر

❖ ۷۰۰۰ متر

❖ $\frac{1}{4}$ ساعت

۵

❖ ۹۱۵ سانتی متر
❖ ۶ کیلوگرم و ۹۰۰ گرم

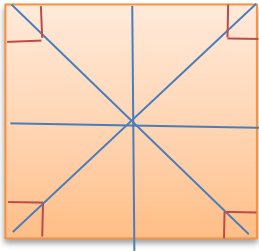


۶

$$\frac{2}{5} > \frac{2}{7} \quad \frac{3}{10} < \frac{6}{10} \quad 1 = \frac{7}{7}$$

7

۴ واحد و $\frac{1}{2}$ واحد > ۵ واحد و $\frac{1}{5}$ واحد > ثلث < خمس



مربع ۴ زاویه راست دارد و ۴ خط تقارن

8

دلار	1	2	3	4	5
تومان	100	200	300	400	500

9

با توجه به اینکه ۳ دلار کشوری ۳۰۰ تومان ارزش دارد پس ۱ دلار آن ۱۰۰ تومان است، در نتیجه ۵ دلار آن ۵۰۰ تومان ارزش دارد

امضاء:

نام و نام خانوادگی مصحح :