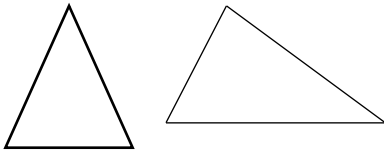


نمونه سوال امتحانی		سوالات درس: ریاضی
پایه دوم ابتدایی		مدت امتحان: 50 دقیقه
منبع دانلود: قلم چی		برگزار شده در: ---

۱- عدد ۳۰۹ را در جدول ارزش مکانی قرار دهید و برای آن شکل بکشید و به حروف بنویسید.

۲- چند عدد دورقمی می توان نوشت که رقم یکانش ۵ و ۴ و رقم دهگانش ۶ و ۷ و ۸ باشد؟

۳- دختر گلم تفاوت و شباهت شکل های زیر را بنویسید.



۴- نازنینم الگو های عددی زیر را ادامه بده.

..... - - - ۳-۶-۹

..... - - - ۲-۴-۸-۱۶

..... - - - ۳۸-۴۱-۴۴

..... - - - ۲۵-۳۰

۵- حاصل جمع و تفریق های زیر را به روش های خواسته شده بنویسید.

$$\begin{array}{r}
 76 \\
 + \\
 19 \\
 \hline
 \end{array}$$

(فرایندی)

$$\begin{array}{r}
 51 \\
 - \\
 30 \\
 \hline
 \end{array}$$

(فرایندی)

۵۲ →

(تقریبی)

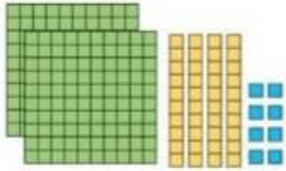
۷۱ →

(تقریبی)

-
۲۵ →

+
۲۴ →

۶- عزیز دلم جدول را با توجه به شکل کامل کن و عدد را به صورت گسترده بنویس.



صدتایی	ده تایی	یکی

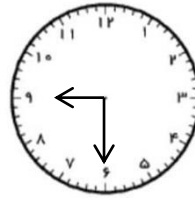
۷- عزیزم ساعت ها را با توجه به موارد خواسته شده کامل کن.



..... :

..... و

یا یک ربع مانده به ۷



..... :

..... و دقیقه

یا و

۸- دلبندم به رقم و حروف بنویس.

سیصد و چهل و هشت

..... ۲۰۹


چهارصد و دو

..... ۳۷۵

پانصد و شصت و دو

..... ۴۵۷

۹- مقدار سکه های سارا را حساب کنید.



۱۰- اگر فاطمه ۲۰۰ سکه ۱ ریالی به بانک تحویل دهد بانک چند سکه ۱۰ ریالی به او می دهد؟

۱۱- سارا ساعت ۳ بعدازظهر خوابید او یک ساعت و نیم خواب بود سارا ساعت چند از خواب بیدار شد؟



آمادگی و دبستان دخترانه غیردولتی روش نوین

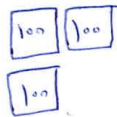
پایه دوم

نام و نام خانوادگی دانش آموز:

موضوع: ارزشیابی ریاضی (دی ماه)

۱- عدد ۳۰۹ را در جدول ارزش مکانی قرار دهید و برای آن شکل بکشید و به حروف بنویسید.

صدگان	دهگان	یکان
۳	۰	۹

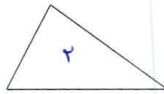
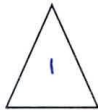


۳۰۹ سهصد و نه

۲- چند عدد دورقمی می توان نوشت که رقم یکانش ۴ و ۵ و رقم دهگانش ۶ و ۷ و ۸ باشد؟

دهگان	یکان
۸ ۸ ۷ ۷ ۶ ۶	۴ ۵ ۴ ۵ ۴ ۵

۳- دختر گلم تفاوت و شباهت شکل های زیر را بنویسید.



شباهت: هر دو مثلث هندسی هستند هر دو سه ضلع و سه گوشه دارند.

تفاوت: مثلث شماره ۱ مربع است اما مثلث شماره ۲ اندازه ضلع هایش فرق دارد پس اندازه نیست.

۴- خان زینم الگو های عددی زیر را ادامه بده.

۱۸ - ۱۵ - ۱۲ - ۹ - ۶ - ۳

۴۴ - ۳۲ - ۲۲ - ۱۴ - ۸ - ۴ - ۲

۴۴ - ۴۱ - ۳۸ - ۳۵ - ۳۲ - ۲۹

۳۰ - ۲۵ - ۲۰ - ۱۵ - ۱۰

۵- حاصل جمع و تفریق های زیر را به روش های خواسته شده بنویسید.

$$\begin{array}{r} 76 \\ + 19 \\ \hline 95 \end{array}$$

(فرایندی)


$$\begin{array}{r} 51 \\ - 30 \\ \hline 21 \end{array}$$

(فرایندی)

۵۲ → ۵۰ (تقریبی)
 ۲۵ → ۲۰

۷۱ → ۷۰ (تقریبی)
 ۲۴ → ۲۰
 +

۶- عزیز دلم جدول را با توجه به شکل کامل کن و عدد را به صورت گسترده بنویس.



صدتایی	ده تایی	یکی
۲	۴	۸

$$۲۴۸ = ۲۰۰ + ۴۰ + ۸$$

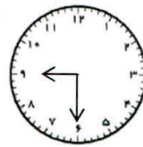
۷- عزیزم ساعت ها را با توجه به موارد خواسته شده کامل کن.



۴ : ۴۵

چهارصد و پنجاه و پنج (تقریبی) و چهارصد و پنجاه و پنج (واقع)

یا یک ربع مانده به ۵



۹ : ۳۰

نُه و سی دقیقه

یا ۹ و نیم

۸- دلبندم به رقم و حروف بنویس.

۲۴۸ سیصد و چهل و هشت

۴۰۲ چهارصد و دو

۵۶۲ پانصد و شصت و دو

۲۰۹ نوزده و سی

۳۷۵ سیصد و هفتاد و پنج

۴۵۷ چهارصد و پنجاه و هفت

۹- مقدار سکه های سارا را حساب کنید.



$$4000 + 10000 + 4000 = 18000 \text{ ریال}$$

۱۰- اگر فاطمه ۲۰۰۰ سکه ۱ ریالی به بانک تحویل دهد بانک چند سکه ۱۰ ریالی به او می دهد؟ ۲۰۰ سکه ۱۰ ریالی می شود

۲۰۰ ریال

۱۱- سارا ساعت ۳ بعد از ظهر خوابید او یک ساعت و نیم خواب بود سارا ساعت چند از خواب بیدار شد؟ ۴:۴۰ یا ۴:۴۵