

نمونه سوال امتحانی		سوالات درس: ریاضی
پایه دوم ابتدایی		مدت امتحان: 50 دقیقه
منبع دانلود: قلم چی		برگزار شده در: ---

۱) عزیزم الگوهای عددی و هندسی زیر را ادامه بده .

..... ، ، ، ۸۵ ، ۹۰ ، ۹۵ ،


..... ، ، ، ۱۱۰ ، ۱۲۰ ، ۱۳۰ ،



شکل ۱



شکل ۲



شکل ۳

شکل ۴

۲) دختر قشنگم ، همه ی عددهای دو رقمی را که می توان با رقم های ۴ ، ۷ برای یکان و ۳، ۵ برای دهگان نوشت را بنویس (با روش شاخه ای یا درختی).

۳) دختر باهوشم ، جمع و تفریق های زیر را انجام بده .

$$\begin{array}{r} ۴۶ \\ - ۱۶ \\ \hline \\ \hline \\ \hline \end{array} \quad \begin{array}{r} ۲۴ \\ + ۲۴ \\ \hline \\ \hline \\ \hline \end{array}$$

$$۸۰ - ۳۰ =$$

$$۸ + ۱۰ + ۵ + ۵ + ۳۰ =$$

۴) دختر نازنین ، برای هر شکل خط تقارن بکش و سپس نشان بده کدام شکل خط تقارن ندارد؟



۵) کتاب مریم ۴۷ صفحه دارد. او امروز ۲۵ صفحه را خوانده است ، مریم چند صفحه از کتاب را نخوانده است ؟ (با روش فرآیندی)

۶) تفاوت و شباهت این دو شکل را بنویس .



تفاوت :

شباهت :

۷) دختر پر تلاشم ، با کارت های ۲ و ۵ و ۳ تمام عدد های سه رقمی را بنویس .

الف) کوچکترین عدد را بنویس ب) عددی را بنویس که جمع یکان و صدگان آن برابر با دهگان آن باشد

.....

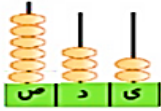
۸) دختر گلم باز شده ی عددهای زیر را بنویس ☺

۷۵۶ =

۴۰۶ =

۵۴۰ =

۹) عزیزم! تعداد هر کدام را بشمار و جدول را کامل کن و سپس به عدد و حروف بنویس.



صدگان	دهگان	یکان

به رقم:.....
به حروف:.....



صدگان	دهگان	یکان

به رقم:.....
به حروف:.....



صدگان	دهگان	یکان

به رقم:.....
به حروف:.....

۱۰) گل من! حاصل جمع و تفریق ها را با حذف رقم یکان و دهگان به صورت تقریبی بنویس.

$$\begin{array}{r} 239 \\ + 682 \\ \hline \end{array} \quad \begin{array}{r} 518 \\ - 344 \\ \hline \end{array}$$

۱۱) گلم، جاهای خالی را کامل کن. الف) ۹۶ یعنی ده تایی و یکی


ب) ۷ سکه ی ۱۰۰ ریالی و ۴ سکه ی ۱۰ ریالی و ۹ سکه ی ۱ ریالی می شود ریال

پ) عدد ۲۵۸ یعنی یکی و ده تایی و صدتایی (ت) یک سکه ۱۰۰ ریالی برابر است با سکه ۱۰ ریالی

ج) ۴ دسته ی صدتایی و ۸ یکی می شود (د) ۱ سکه ی ۲۵۰ ریالی و ۲ سکه ی ۱ ریالی می شود

و) عدد ۶۸ به ۶۰ نزدیکتر است یا به ؟ (ه) عدد ۴۲۳ به نزدیکتر است یا به ؟

۱۲) به سوالات زیر با دقت پاسخ بده.



ساعت چند است ؟

۱۵ دقیقه ی دیگر ساعت چند است ؟

اگر ساعت ۷:۰۰ باشد، بعد از یک ساعت و ربع دیگر ساعت چند است ؟

با آرزوی موفقیت برای دخترهای قشنگم

مدت آزمون : دقیقه

به نام خدای شاپرک های رنگ رنگ

تاریخ :

دبستان غیردولتی دخترانه سما

آموزگار: افرا

ارزشیابی ریاضی نوبت اول پایه دوم

نام و نام خانوادگی :

۱) عزیزم الگوهای عددی و هندسی زیر را ادامه بده .

..... ۷۰ ۷۵ ۸۰ ۸۵ ۹۰ ۹۵

..... ۱۰ ۱۲۰ ۱۳۰ ۱۴۰ ۱۵۰ ۱۶۰



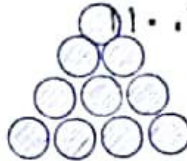
شکل ۱



شکل ۲



شکل ۳



شکل ۴

۲) دختر قشنگم ، همه ی عددهای دو رقمی را که می توان با رقم های ۴ ، ۷ برای یکان و ۳ ، ۵ برای دهگان نوشت را بنویس

۳۴ - ۳۷ - ۵۴ - ۵۷

(با روش شاخه ای یا درختی).

۳) دختر باهوشم ، جمع و تفریق های زیر را انجام بده .

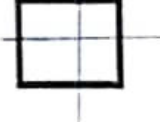

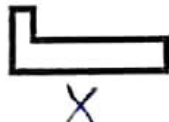
$$\begin{array}{r} ۴۶ \\ - ۱۶ \\ \hline ۳۰ \\ - ۴ \\ \hline ۲۶ \end{array}$$

$$\begin{array}{r} ۲۴ \\ + ۲۴ \\ \hline ۴۸ \\ + ۴ \\ \hline ۵۲ \end{array}$$

$$۸۰ - ۳۰ = ۵۰$$

$$۸ + ۱۰ + ۵ + ۵ + ۳۰ = ۵۸$$

۴) دختر نازنین ، برای هر شکل خط تقارن بکش و سپس نشان بده کدام شکل خط تقارن ندارد؟




۵) کتاب مریم ۴۷ صفحه دارد. او امروز ۲۵ صفحه را خوانده است ، مریم چند صفحه از کتاب را نخوانده است ؟ (با روش

فرآیندی) مریم ۲۲ صفحه از کتاب را نخوانده است .

$$\begin{array}{r} ۴۷ \\ - ۲۵ \\ \hline ۲۲ \\ - ۲۲ \\ \hline ۰ \end{array}$$

۶) تفاوت و شباهت این دو شکل را بنویس .



تفاوت :
شباهت :

۷) دختر پر تلاشم ، با کارت های ۳ و ۵ و ۳ تمام عدد های سه رقمی را بنویس .

الف) کوچکترین عدد را بنویس
ب) عددی را بنویس که جمع یکان و صدگان آن برابر با دهگان آن باشد
۲۵۲
۲۵۳

..... ۲۳۵ ۲۵۲ ۵۲۳ ۵۳۲ ۳۲۵ ۳۵۲

۸) دختر گلم باز شده ی عدد های زیر را بنویس ☺

$$۷۵۶ = ۷۰۰ + ۵۰ + ۶$$

$$۴۰۶ = ۴۰۰ + ۶$$

$$۵۴۰ = ۵۰۰ + ۴۰$$

۹) عزیزم! تعداد هر کدام را بشمار و جدول را کامل کن و سپس به عدد و حروف بنویس.



یکان	دهگان	صدگان
۲	۳	۲

به رقم: ۲۳۲
به حروف: دویست و سی و دو



یکان	دهگان	صدگان
۴	۴	۴

به رقم: ۴۴۴
به حروف: چهارصد و چهل و چهار



یکان	دهگان	صدگان
۲	۵	۸

به رقم: ۸۵۲
به حروف: دویست و پنجاه و دو

۱۰) گل من! حاصل جمع و تفریق ها را با حذف رقم یکان و دهگان به صورت تقریبی بنویس.

$$\begin{array}{r} ۲۳۹ \\ + ۶۸۲ \\ \hline \end{array} \rightarrow \begin{array}{r} ۲۰۰ \\ + ۷۰۰ \\ \hline ۹۰۰ \end{array} \quad \begin{array}{r} ۵۱۸ \\ - ۳۴۴ \\ \hline \end{array} \rightarrow \begin{array}{r} ۵۰۰ \\ - ۳۰۰ \\ \hline ۲۰۰ \end{array}$$

۱۱) گلم، جاهای خالی را کامل کن. الف) ۹۶ یعنی ۹۰ و ۶ یکی

ب) ۲ سکه ۱۰۰ ریالی و ۴ سکه ۱۰ ریالی و ۹ سکه ۱ ریالی می شود ۲۹۰ ریال

پ) عدد ۲۵۸ یعنی ۲۰۰ یکی و ۵۰ ده تایی و ۸ صدتایی (ت) یک سکه ۱۰۰ ریالی برابر است با ۱۰ سکه ۱۰ ریالی

ج) ۴ دسته ی صدتایی و ۸ یکی می شود ۴۰۸ (د) ۱ سکه ۱ ریالی و ۲۵۰ سکه ۲ ریالی می شود ۲۵۲

و) عدد ۶۸ به ۶۰ نزدیکتر است یا به ۷۰؟ ۷۰ (ه) عدد ۴۲۳ به ۴۰۰ نزدیکتر است یا به ۴۵۰؟ ۴۰۰

۱۲) به سوالات زیر با دقت پاسخ بده.



ساعت چند است؟ ۱۰:۱۵ یا (ساعت ۱۰ و ۱۵ دقیقه است)

۱۵ دقیقه ی دیگر ساعت چند است؟ ۱۰:۳۰

اگر ساعت ۷:۰۰ باشد، بعد از یک ساعت و ربع دیگر ساعت چند است؟ ۸:۱۵ (ساعت ۸ و ۱۵ دقیقه است)

با آرزوی موفقیت برای دخترهای فشانم