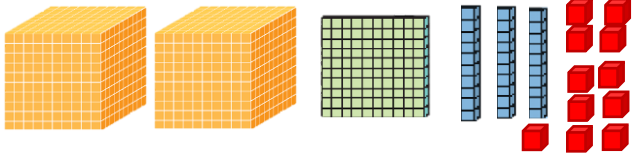
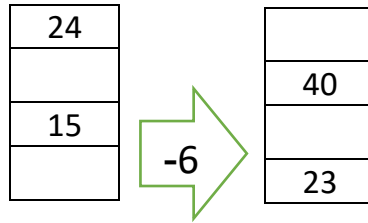
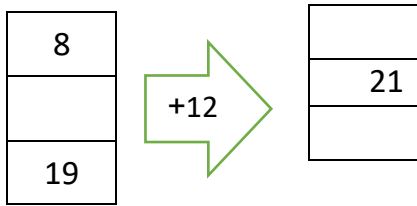


نمونه سوال امتحانی		سوالات درس: ریاضی
پایه سوم ابتدایی		مدت امتحان: 60 دقیقه
منبع دانلود: قلم چی		برگزار شده در: ---

شماره	صورت سوال								
5									
1	<p>به حروف یا عدد بنویس.</p> <p>دو هزار و چهارده:.....</p> <p>3617 :</p>  <table border="1" style="float: right; margin-left: 20px;"> <tr> <td>یکان</td> <td>دهگان</td> <td>صدگان</td> <td>هزارگان</td> </tr> <tr> <td> </td> <td> </td> <td> </td> <td> </td> </tr> </table> <p>به حروف: به رقم:</p>	یکان	دهگان	صدگان	هزارگان				
یکان	دهگان	صدگان	هزارگان						
2	<p>مقایسه کن:</p> <p>2450 <input type="text"/> 2045 1400 ریال <input type="text"/> 250 تومان 2 متر <input type="text"/> 180 سانتی‌متر</p> <p>2600 گرم <input type="text"/> 2 کیلو و 600 گرم دو واحد و $\frac{1}{3}$ واحد <input type="text"/> یک واحد و $\frac{1}{2}$ واحد</p>								
3	<p>جاهای خالی را کامل کن:</p> <p>..... یعنی 2 یکی و 3 صدتایی و 4 هزارتایی.</p> <p>260 تومان یعنی ریال</p> <p>4 سانتی متر و 5 میلی متر یعنی میلی متر</p> <p>158 سانتی متر یعنی متر و سانتی متر</p> <p>8012 متر یعنی کیلومتر و متر.</p> <p>وسیله اندازه گیری زاویه راست نام دارد.</p> <p>یک قطر از شعاع درست شده است.</p>								
4	<p>الگوها را ادامه بده:</p> <p>1 ، 3 ، 6 ، 10 ، ، ، ، ، ، 2200 ، 2400 ، 2600</p> <p>6545 ، 6645 ، 6745 ، ، ، ، ، ، 932 ، 942 ، 952</p> <p>1100 ، 1300 ، 1500 ، ، ، ، ، ، 725 ، 730 ، 735</p>								

ماشین ها را کامل کن:



5

تمام عددهای چهاررقمی که رقم یکان 2، رقم دهگان 3 و 4، رقم صدگان 5 و 6 و 0 و رقم هزارگان 7 باشد بنویس.

6

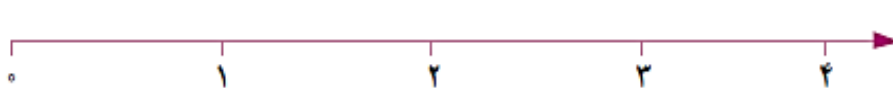
✓ کوچکترین عددی که ساختی کدام است؟

جایگاه عددهای زیر را روی محور نشان بده:

1445 - 2732 - 4698 - 114



7



$\frac{1}{3}$ واحد مانده به عدد 3

✓ این جایگاه یعنی — واحد بعد از عدد



ساعت : بعد از ظهر یا : است.

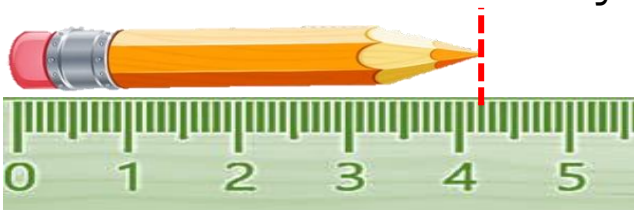
یا مانده به ساعت 7 است.

عقربه بزرگ از ساعت 6 چه کسری از ساعت را طی کرده است؟ — ساعت

چه کسری از ساعت به ساعت 7 مانده است؟ — ساعت

8

طول مداد از سانتی متر بیشتر و سانتی متر کمتر است.



طول مداد سانتی متر و میلی متر است،

یعنی طول مداد میلی متر است.

طول مداد سانتی متر و — سانتی متر است.

9

<p>پدر علی و محمد به هر کدام مقدار مساوی پول داد. اگر علی $\frac{2}{3}$ پولش و محمد $\frac{2}{4}$ پولش را صدقه دهند، کدامیک مقداری بیشتری صدقه داده است؟</p> <p>در یک مغازه گل‌فروشی یک کمد دیواری 6 قفسه دارد. در هر قفسه 5 گلدان وجود دارد. در هر گلدان 2 گل وجود دارد.</p> <p>✓ در دو قفسه این کمد چند گل وجود دارد؟</p> <p>✓ در سه قفسه این کمد چند گلدان وجود دارد؟</p> <p>✓ الگوی بین گلدان ها در هر قفسه را بنویس.</p> <p>✓ هر یک قفسه که پایین می آیییم الگوی بین گل ها را بنویس.</p>	<p>10</p> <p>11</p>
<p>1 دلار کشوری به اندازه 1300 تومان ارزش دارد. 3 دلار ارزش بیشتری دارد یا 3000 تومان؟</p>	<p>12</p>
<p>مادر سارا خیاط است. او یک پارچه مستطیل شکل را به دو قسمت مساوی تقسیم کرد. با یک قسمت آن پیراهن دوخت. نیمه دیگر را به 2 قسمت مساوی تقسیم کرد و با یک نیمه آن روسری دوخت.</p> <p>با قسمت از قسمت مساوی پیراهن دوخته است.</p> <p>با قسمت از قسمت مساوی روسری دوخته است.</p>	<p>13</p>
<p><u>ضرب های زیر را با هر روشی دوست داری حساب کن:</u></p> <p>$5 \times 2 = \square$</p> <p>$3 \times 6 = \square$</p>	<p>14</p>

باید بیشتر تلاش می‌کردم.

خودسنجی: از آزمونم راضی بودم

بازخورد
معلم:

هدف	خ	خ	ق	ن
تقریب				
کسر روی ساعت و ساعت				
کسر روی اندازه گیری				
مقایسه کسر				
حل مسئله های متنی				

هدف	خ	خ	ق	ن
عدد نویسی				
مقایسه اعداد و کسرها				
تبدیل واحد				
الگویابی				
ماشین ها				

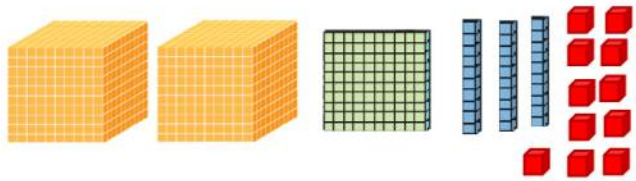
پایه : سوم نوبت اول دی ماه سال تحصیلی ۱۴۰۲-۱۴۰۱

شماره ۱ صورت سوال

به حروف یا عدد بنویس.

دو هزار و چهارده: ۲۰۱۴

سه هزار و ششصد و هفده: ۳۶۱۷



یکان	دهگان	صدگان	هزارگان
۱	۴	۱	۲

به حروف: دو هزار و صد و چهل و یک به رقم: ۲۱۴۱

شماره ۲ مقایسه کن:

۲۴۵۰ < ۲۰۴۵ ریال ۱۴۰۰ > ۲۵۰ تومان ۲ متر < ۱۸۰ سانتی متر

۲۶۰۰ گرم = ۲ کیلو و ۶۰۰ گرم دو واحد و $\frac{1}{3}$ واحد < یک واحد و $\frac{1}{2}$ واحد

شماره ۳ جاهای خالی را کامل کن:

۴۳۰۲ یعنی ۲ یکی و ۳ صدتایی و ۴ هزارتایی.

۲۶۰ تومان یعنی ۲۶۰۰ ریال

۴ سانتی متر و ۵ میلی متر یعنی ۴۵ میلی متر

۱۵۸ سانتی متر یعنی ۱ متر و ۵۸ سانتی متر

۸۰۱۲ متر یعنی ۸ کیلومتر و ۱۲ متر.

وسیله اندازه گیری زاویه راست گونیا نام دارد.

یک قطر از ۲ شعاع درست شده است.

شماره ۴ الگوها را ادامه بده:

۱، ۳، ۶، ۱۰، ۱۵، ۲۱، ۲۸ ۱۶۰۰، ۱۸۰۰، ۲۰۰۰، ۲۲۰۰، ۲۴۰۰، ۲۶۰۰

۶۵۴۵، ۶۶۴۵، ۶۷۴۵، ۶۸۴۵، ۶۹۴۵، ۷۰۴۵ ۹۰۲، ۹۱۲، ۹۲۲، ۹۳۲، ۹۴۲، ۹۵۲

۱۱۰۰، ۱۳۰۰، ۱۵۰۰، ۱۷۰۰، ۱۹۰۰، ۲۱۰۰ ۷۱۰، ۷۱۵، ۷۲۰، ۷۲۵، ۷۳۰، ۷۳۵

شماره ۵ ماشین ها را کامل کن:

۸	+۱۲	۲۰
۹		۲۱
۱۹		۳۱

۲۴	-۶	۱۸
۴۶		۴۰
۱۵		۹
۲۹		۲۳

Mianborplus.ir

تمام عددهای چهاررقمی که رقم یکان ۲، رقم دهگان ۳ و ۴، رقم صدگان ۵ و ۶ و ۰ و رقم هزارگان ۷ باشد بنویس.

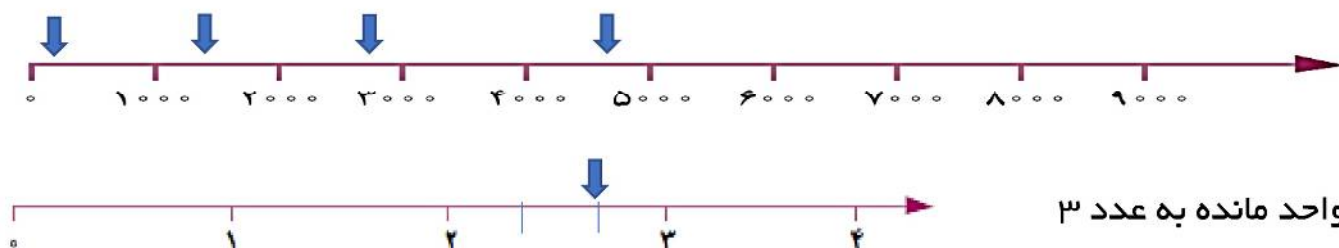
بهتر است به روش درختی باشد.

۷۰۳۲-۷۰۴۲-۷۵۳۲-۷۵۴۲-۷۶۳۲-۷۶۴۲

✓ کوچکترین عددی که ساختی کدام است؟ ۷۰۳۲

جایگاه عددهای زیر را روی محور نشان بده:

۱۴۴۵ - ۲۷۳۲ - ۴۶۹۸ - ۱۱۴



$\frac{1}{3}$ واحد مانده به عدد ۳

✓ این جایگاه یعنی $\frac{2}{3}$ واحد بعد از عدد ۲



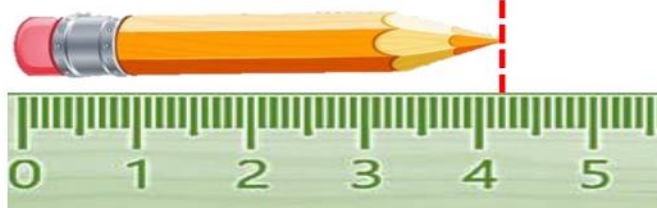
ساعت ۴۵ : ۶ بعد از ظهر یا ۴۵ : ۱۸ است.

یا یک ربع مانده به ساعت ۷ است.

عقربه بزرگ از ساعت ۶ چه کسری از ساعت را طی کرده است؟ $\frac{3}{4}$ ساعت

چه کسری از ساعت به ساعت ۷ مانده است؟ $\frac{1}{4}$ ساعت

طول مداد از ۴ سانتی متر بیشتر و ۵ سانتی متر کمتر است.



طول مداد ۴ سانتی متر و ۲ میلی متر است،

یعنی طول مداد ۴۲ میلی متر است.

طول مداد ۴ سانتی متر و $\frac{2}{10}$ سانتی متر است.

پدر علی و محمد به هر کدام مقدار مساوی پول داد. اگر علی $\frac{2}{3}$ پولش و محمد $\frac{2}{4}$ پولش را صدقه

دهند، کدامیک مقداری بیشتری صدقه داده است؟ با کشیدن دو شکل هم اندازه مقایسه می کنند.

$\frac{2}{3}$ بیشتر است یعنی علی بیشتر صدقه داده.

در یک مغازه گل‌فروشی یک کمد دیواری ۶ قفسه دارد. در هر قفسه ۵ گلدان وجود دارد. در هر گلدان ۲ گل وجود دارد.

✓ در دو قفسه این کمد چند گل وجود دارد؟ ۲۰ تا

✓ در سه قفسه این کمد چند گلدان وجود دارد؟ ۱۵ تا

✓ الگوی بین گلدان‌ها در هر قفسه را بنویس. الگوی ۵ تا ۵ تا

✓ هر یک قفسه که پایین می‌آییم الگوی بین گل‌ها را بنویس. الگوی ۱۰ تا ۱۰ تا

۱ دلار کشوری به اندازه ۱۳۰۰ تومان ارزش دارد. ۳ دلار ارزش بیشتری دارد یا ۳۰۰۰ تومان؟
 ۳۹۰۰ تومان = ۱۳۰۰ + ۱۳۰۰ + ۱۳۰۰ پس ۳ دلار ارزش بیشتری دارد.

مادر سارا خیاط است. او یک پارچه مستطیل شکل را به دو قسمت مساوی تقسیم کرد. با یک قسمت آن پیراهن دوخت. نیمه دیگر را به ۲ قسمت مساوی تقسیم کرد و با یک نیمه آن روسری دوخت.
 با ۲ قسمت از ۴ قسمت مساوی پیراهن دوخته است.
 با ۱ قسمت از ۴ قسمت مساوی روسری دوخته است.

روسری	پیراهن

ضرب‌های زیر را با هر روشی دوست داری حساب کن:

۵ × ۲ =

۳ × ۶ =

باید بیشتر تلاش می‌کردم.

خودسنجی: از آزمونم راضی بودم

هدف	خ	خ	ق	ق	ن
تقریب					
کسر روی ساعت و ساعت					
کسر روی اندازه‌گیری					
مقایسه کسر					
حل مسئله‌های متنی					

هدف	خ	خ	ق	ق	ن
عدد نویسی					
مقایسه اعداد و کسرها					
تبدیل واحد					
الگویابی					
ماشین‌ها					

بازخورد معلم: