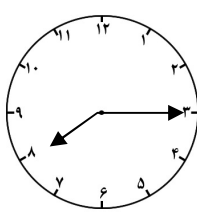
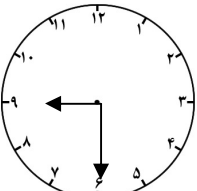
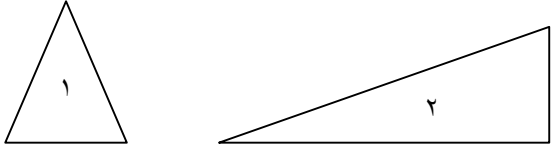

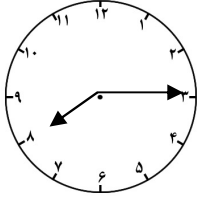
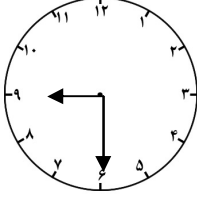
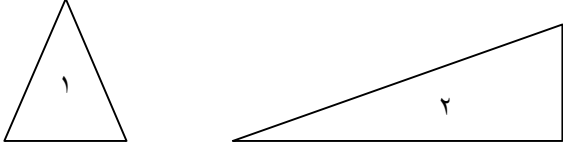


نمونه سوال امتحانی		سوالات درس: ریاضی
پایه دوم ابتدایی		مدت امتحان: 50 دقیقه
منبع دانلود: قلم چی		برگزار شده در: رفسنجان

۱	<p>پاسخ صحیح را با علامت X مشخص کنید.</p> <p>نیم ساعت همان ۳۰ دقیقه است. <input type="checkbox"/> درست <input type="checkbox"/> نادرست</p> <p>عدد ۴۸ به ۴۰ نزدیک است. <input type="checkbox"/> درست <input type="checkbox"/> نادرست</p>
۲	<p>گزینه ی صحیح را با علامت X مشخص کنید.</p> <p>- کدام یک از عددهای زیر ۱ صدتایی، ۴ ده تایی و ۳ یکی دارد؟</p> <p><input type="checkbox"/> الف (۱۳۴) <input type="checkbox"/> ب (۳۴۱) <input type="checkbox"/> ج (۱۴۳) <input type="checkbox"/> د (۴۱۳)</p> <p>- ساعت کلاس ساعت ۸:۱۵ را نشان می دهد. عقربه ی دقیقه شمار روی چه عددی قرار دارد؟</p> <p><input type="checkbox"/> الف (۱) <input type="checkbox"/> ب (۶) <input type="checkbox"/> ج (۳) <input type="checkbox"/> د (۹)</p>
۳	<p>در جای خالی عدد یا عبارت مناسب بنویسید.</p> <p>با کارت ۲ و ۵ عدد دو رقمی می توانیم بنویسیم .</p> <p>با رقم های ۲ و ۵ عدد دو رقمی می توانیم بنویسیم .</p> <p>۷ دسته ی ده تایی منهای ۳ دسته ی ده تایی می شود</p>
۴	<p>مقایسه کنید و علامت مناسب بگذارید ($<$ $=$ $>$)</p> <p>۲۲۶ <input type="checkbox"/> ۵۶۷ ۳۰۱ <input type="checkbox"/> ۱۰۳ ۸۹۰ <input type="checkbox"/> ۹۸۰ ۱۰۰ <input type="checkbox"/> ۸۰</p>
۵	<p>به رقم بنویسید .</p> <p>..... چهارصد و نه</p> <p>..... هشتصد و هفتاد و پنج</p>
۶	<p>به حروف بنویسید.</p> <p>۳۴۹.....</p> <p>۵۰۸.....</p>
۷	<p>سکه ی روبرو را می توان با چند سکه ی ۱۰۰ ریالی و چند سکه ی ۱۰ ریالی عوض کرد .</p> <div style="display: flex; align-items: center; justify-content: center;"> <div style="border: 1px solid black; border-radius: 50%; padding: 10px; margin-right: 20px;"> <p>۲۵۰</p> <p>ریال</p> </div> </div>
۸	<p>زمانی که هر ساعت نشان می دهد را به دو صورت بنویسید .</p> <div style="display: flex; justify-content: space-around; align-items: flex-end;"> <div style="text-align: center;">  <p>.....</p> <p>.....</p> </div> <div style="text-align: center;">  <p>.....</p> <p>.....</p> </div> </div>

۹	<p>دو شکل زیر هر دو مثلث هستند چه تفاوت و شباهت هایی با هم دارند .</p> <p>تفاوت :</p> <p>شباهت :</p> 
۱۰	<p>جواب جمع و تفریق ها را به صورت تقریبی به دست آورید.</p> <p>۵۳ → ۶۸ →</p> <p>+۲۹ → -۴۱ →</p> <p>_____ _____</p>
۱۱	<p>حاصل جمع و تفریق زیرا از راه فرایندی (چکمه ای ، چکشی) بدست آورید . (با رسم شکل)</p> <p>۲۲ ۶۰</p> <p>+۵۶ -۱۴</p> <p>_____ _____</p>
۱۲	<p>همه ی عدد های دو رقمی که رقم یکان آن ۳ و ۴ و رقم دهگان آن ۵ و ۷ باشد را بنویسید.</p>
۱۳	<p>با رقم های ۷ و ۸ چند عدد دو رقمی می توان نوشت ؟ آن ها را بنویسید .</p> <p>.....</p>
۱۴	<p>الف) زهرا ۲۴ صدف از ساحل دریا جمع کرد و به برادرش علی که ۴۹ صدف جمع کرده بود داد حالا برادر زهرا چند صدف دارد؟</p> <p>ب) علی از صدف هایش ۴۵ تا را انتخاب کرد و با آن ها یک کاردستی درست کرد . حالا چند صدف برایش باقی مانده است؟</p>
۱۵	<p>الگوها رو ادامه بده .</p> <p>۵۳۱ - ۵۳۲ - - - - -</p> <p>۱۰۰ - ۲۰۰ - - - - -</p>

پاسخنامه		به نام خدا		کلاس دوم ج	
استان کرمان شهرستان رفسنجان		آزمون ریاضی ترم اول سال تحصیلی		طراح سوال : عبدالهیی	
		دبستان دخترانه شهید پور جندقی			
۱	الف (درست ب) نادرست				
۲	الف (ج ب) ج				
۳	با کارت ۲ و ۵ دو عدد دو رقمی می توان بنویسیم . با رقم های ۲ و ۵ چهار عدد دو رقمی می توانیم بنویسیم . ۷ دسته ی ده تایی منهای ۳ دسته ی ده تایی می شود ۴ دسته ی ده تایی				
۴	$۵۶۷ < ۲۲۶$ $۳۰۱ > ۱۰۳$ $۸۹۰ < ۹۸۰$ $۱۰۰ > ۸۰$				
۵	۴۰۹ چهارصد و نه ۸۷۵ هشتصد و هفتاد و پنج				
۶	سیصد و چهل و نه ۳۴۹ پانصد و هشت ۵۰۸				
۷	دو سکه ۱۰۰ ریالی و ۵ سکه ۱۰ ریالی				
۸	نه و نیم ۹ : ۳۰	هشت و ربع ۸ : ۱۵		 	
۹	تفاوت : در شکل شماره ۱ ضلع ها مساوی هستند اما در شکل شماره ۲ ضلع ها مساوی نیستند				
۱۰		$\begin{array}{r} ۵۳ \rightarrow ۵۰ \\ +۲۹ \rightarrow ۳۰ \\ \hline ۸۰ \end{array}$ $\begin{array}{r} ۶۸ \rightarrow ۷۰ \\ -۴۱ \rightarrow ۴۰ \\ \hline ۳۰ \end{array}$			

$\begin{array}{r} 22 \\ +56 \\ \hline +72 \\ 6 \end{array}$	$\begin{array}{r} 60 \\ -14 \\ \hline +50 \\ 4 \end{array}$	۱۱
---	---	----

<table border="1" style="border-collapse: collapse; text-align: center;"> <tr><th>دهگان</th><th>یکان</th></tr> <tr><td>۵</td><td>۳</td></tr> <tr><td>۵</td><td>۴</td></tr> <tr><td>۷</td><td>۳</td></tr> <tr><td>۷</td><td>۴</td></tr> </table>	دهگان	یکان	۵	۳	۵	۴	۷	۳	۷	۴	$\begin{array}{c} \nearrow 3 \rightarrow 53 \\ \searrow 4 \rightarrow 54 \end{array}$	$\begin{array}{c} \nearrow 3 \rightarrow 73 \\ \searrow 4 \rightarrow 74 \end{array}$	۱۲
دهگان	یکان												
۵	۳												
۵	۴												
۷	۳												
۷	۴												

۸۷ - ۷۸ - ۸۸ - ۷۷

$\begin{array}{r} 63 \\ +45 \\ \hline -23 \\ 5 \\ \hline 18 \end{array}$	<p>الف) حالا برادر زهرا ۶۳ صدف دارد .</p> $\begin{array}{r} 14 \\ +49 \\ \hline +54 \\ 9 \\ \hline 63 \end{array}$ <p>ب) علی ۱۸ صدف برایش باقی مانده است .</p>	۱۴
--	--	----

۵۳۱-۵۳۲-۵۳۳-۵۳۴-۵۳۵-۵۳۶-۵۳۷-۵۳۸-۵۳۹-۵۴۰
۱۰۰-۲۰۰-۳۰۰-۴۰۰-۵۰۰-۶۰۰-۷۰۰-۸۰۰-۹۰۰

۱۵