

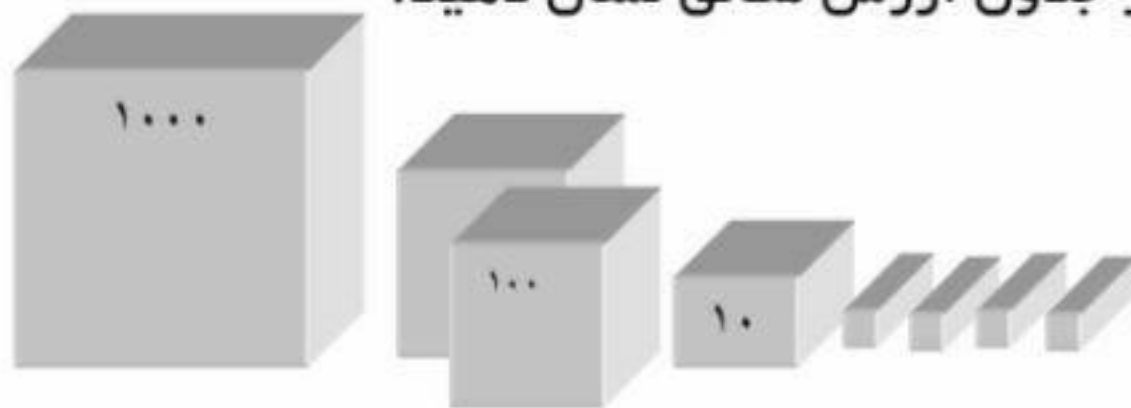
نمونه سوال امتحانی	 ميانبرپلاس آکادمی ریاضی	سوالات درس: ریاضی
بایه سوم ابتدایی		مدت امتحان: 50 دقیقه
منبع دانلود: قلم چی		برگزار شده در: ---

۱- در جاهای خالی عدد مناسب بنویسید.

..... یکی و ده تایی و صدتایی = ۹۷۸

۲- کتابخانه دبستان یادآوران ۴۲۳ کتاب داشت. دانش آموزان این دبستان ۷۳ کتاب را به دبستان دیگری هدیه کردند. حالا این کتابخانه چند کتاب دارد؟

۳- با توجه به شکل مقدار هر کدام را در جدول ارزش مکانی نشان دهید.



یکی	ده تایی	صدتایی	هزارتایی

۴- حاصل جمع و تفریق های زیر را بنویسید.

$$+856$$

$$-156$$

$$+9874$$

$$-1757$$

$$+43087$$

$$\underline{123}$$

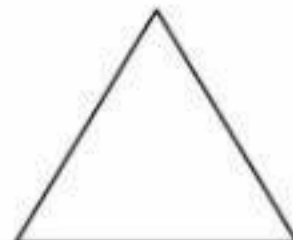
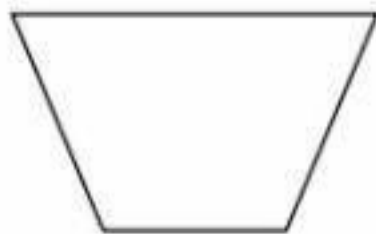
$$\underline{458}$$

$$\underline{343}$$

$$\underline{222}$$

$$\underline{4324}$$

۵- هر یک از شکلهای زیر چند ضلع دارد؟



۶- حامد روزی ۵۹ صفحه کتاب می خواند در ۷ روز او چند صفحه کتاب خواهد خواند؟

۷- در جاهای خالی عدد مناسب بنویسید.

$۸ \times ۷ = \square$

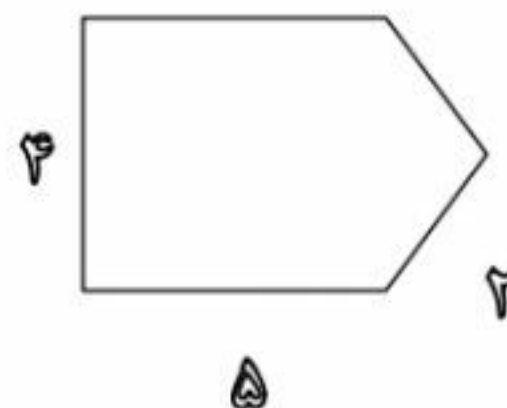
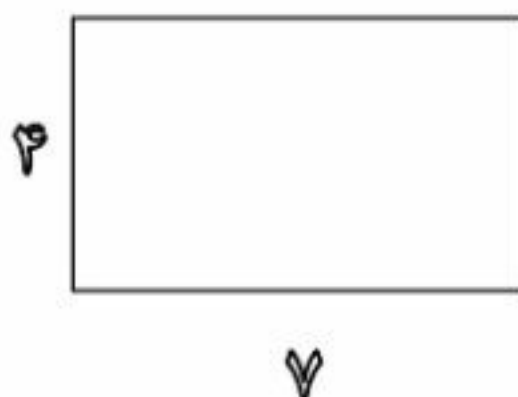
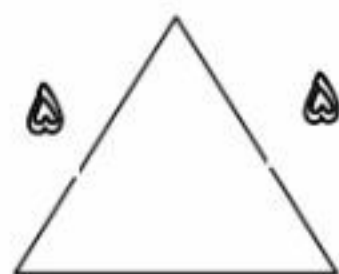
$۹ \times ۵ = \square$

$۱۱ \times ۴ = \square$

$۷ \times ۷ = \square$

۸- مادر علی خیاطی می کند. او به هر پیراهن ۵ دکمه می دوزد. ۳۰ دکمه را به چند پیراهن می تواند بدوزد؟

۹- محیط هر یک از شکل‌های زیر را حساب کنید.



۱۰- کلاسی ۳ ردیف میز و نیمکت دارد در هر ردیف ۴ میز و نیمکت چیده اند. اگر روی هر نیمکت ۳ دانش آموز بنشینند، این کلاس چند دانش آموز دارد؟

۱۱- تقسیم‌های زیر را انجام دهید.

$$\begin{array}{r} ۱۶ \\ \hline ۲ \end{array}$$

$$\begin{array}{r} ۲۵۴ \\ \hline ۴ \end{array}$$

$$\begin{array}{r} ۳۰ \\ \hline ۵ \end{array}$$

$$\begin{array}{r} ۷۸ \\ \hline ۴ \end{array}$$

۱- در جاهای خالی عدد مناسب بنویسید.


۸۰۰۰۰۰۰۰ یکی و ۷۰۰۰۰۰۰ ده تایی و ۹۰۰۰۰۰۰ صدتایی = ۹۷۸

۲- کتابخانه دبستان یادآوران ۴۲۳ کتاب داشت. دانش آموزان این دبستان ۷۳ کتاب

را به دبستان دیگری هدیه کردند. حالا این کتابخانه چند کتاب دارد؟

$$\begin{array}{r} 423 \\ - 73 \\ \hline 350 \end{array}$$

۳- با توجه به شکل مقدار هر کدام را در جدول ارزش مکانی نشان دهید.



هزارتایی	صدتایی	ده تایی	یکی
۱	۲	۱	۴

۴- حاصل جمع و تفریق های زیر را بنویسید.

$$\begin{array}{r} +854 \\ 123 \\ \hline 977 \end{array}$$

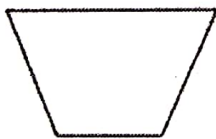
$$\begin{array}{r} 11 \\ +154 \\ \hline 165 \end{array}$$

$$\begin{array}{r} 11 \\ +9874 \\ \hline 10217 \end{array}$$

$$\begin{array}{r} -1757 \\ 222 \\ \hline 1535 \end{array}$$

$$\begin{array}{r} 11 \\ +43087 \\ \hline 43214 \end{array}$$

۵- هر یک از شکلهای زیر چند ضلع دارد؟



۴



۳



۵

۶- حامد روزی ۵۹ صفحه کتاب می خواند در ۷ روز او چند صفحه کتاب خواهد خواند؟

$$\begin{array}{r} \times 59 \\ 7 \\ \hline + 350 \\ 413 \end{array}$$

۴۱۳

۷- در جاهای خالی عدد مناسب بنویسید.

$$۸ \times ۷ = \boxed{۵۶}$$

$$۹ \times ۵ = \boxed{۴۵}$$

$$۱۱ \times ۴ = \boxed{۴۴}$$

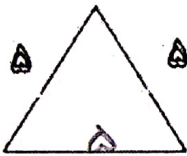
$$۷ \times ۷ = \boxed{۴۹}$$

۸- مادر علی خیاطی می کند. او به هر پیراهن ۵ دکمه می دوزد. ۳۰ دکمه را به چند

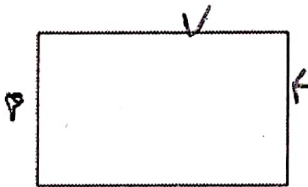
پیراهن می تواند بدوزد؟

$$\begin{array}{r} ۳۰ \quad | \quad ۵ \\ - ۳۰ \quad | \quad ۶ \\ \hline ۰ \quad ۰ \end{array}$$

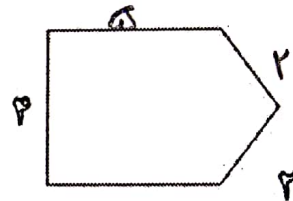
۹- محیط هر یک از شکل‌های زیر را حساب کنید.



$$۵ + ۵ + ۵ = ۱۵$$



$$۷ + ۴ + ۷ + ۴ = ۲۲$$



$$۵ + ۲ + ۲ + ۵ + ۴ = ۱۸$$

۱۰- کلاسی ۳ ردیف میز و نیمکت دارد در هر ردیف ۴ میز و نیمکت چیده اند. اگر روی

هر نیمکت ۳ دانش آموز بنشینند، این کلاس چند دانش آموز دارد؟

$$۳ \times ۴ = ۱۲$$

$$\begin{array}{r} \times ۱۲ \quad ۱۰ + ۲ \\ ۳ \\ \hline + ۳۰ \\ \hline ۳۶ \end{array}$$

۱۱- تقسیم‌های زیر را انجام دهید.

$$\begin{array}{r} ۱۶ \quad | \quad ۲ \\ - ۱۶ \quad | \quad ۸ \\ \hline ۰ \quad ۰ \end{array}$$

$$\begin{array}{r} ۲۵۴ \quad | \quad ۴ \\ - ۲۴۰ \quad | \quad ۶۰ \\ \hline ۰۱۴ \quad | \quad + ۲ \\ - ۱۲ \quad | \quad ۶۲ \\ \hline ۰۲ \end{array}$$

$$\begin{array}{r} ۳۰ \quad | \quad ۵ \\ - ۳۰ \quad | \quad ۶ \\ \hline ۰ \quad ۰ \end{array} \quad \begin{array}{r} ۷۸ \quad | \quad ۴ \\ - ۴۰ \quad | \quad ۱۰ \\ \hline ۳۸ \quad | \quad + ۹ \\ - ۳۶ \quad | \quad ۱۹ \\ \hline ۰۲ \end{array}$$

عزیزانم موفق و سربلند
باشید