

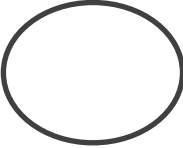


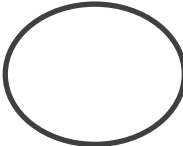

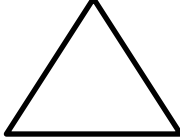


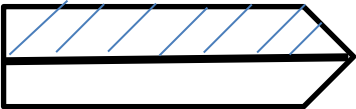
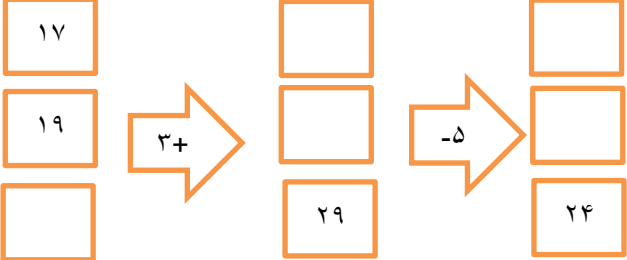



نمونه سوال امتحانی	 Mianborplus Academy آکادمی ریاضی میانبرپلاس	سوالات درس: ریاضی
پایه دوم ابتدایی		مدت امتحان: 50 دقیقه
منبع دانلود: قلم چی		برگزار شده در: تهران

ردیف	سؤالات	نوع
	یک کتاب ۶۵ صفحه دارد . علی ۲۰ صفحه را هفته ی قبل خوانده بود . این هفته او ۳۵ صفحه ی دیگر را خواند . چند صفحه از کتاب باقی مانده است ؟	۱
	با کارت های ۹ و ۲ هر چه می توانی عدد دو رقمی ساخته و اعداد در جدول یکی و ده تایی قرار داده شود.	۲
	با یکان ۷ و دهگان ۸ یک عدد دور قمی به عدد و حروف نوشته شود عدد: حروف:	۳
	حاصل عبارات زیر را با استفاده از روش خواسته شده به دست آورید (چوب خط) $8 + 7 =$ (الف) (بسته ی یکی و ده تایی) $55 - 30 =$ (ب)	۴

	<p>جاهای خالی را کامل کنید .</p> <p>الف + = ۵ ب + = ۵ پ + = ۵ ت + = ۵ ث + = ۵</p>	۵
	<p>با استفاده از روش فرایندی پاسخ عبارات زیر داده شود. (عبارات ستونی نوشته شوند)</p> <p>۳۲ + ۲۳ = ۳۲ - ۵۶ =</p>	۶
	<p>ساعت های زیر را نمایش دهید .</p> <div style="display: flex; justify-content: space-around; align-items: center;"> <div style="text-align: center;">  <p>۰۱:۳۰</p> </div> <div style="text-align: center;">  <p>۱۲:۵۵</p> </div> </div>	۷
	<p>خط تقارن شکل های زیر رسم شود .</p> <div style="display: flex; justify-content: space-around; align-items: center;">    </div>	۸
	<p>تعداد ضلع و گوشه ی شکل های زیر را نشان داده و بنویسید .</p> <div style="display: flex; justify-content: space-around; align-items: center;"> <div style="text-align: center;">  <p>تعداد ضلع : تعداد گوشه :</p> </div> <div style="text-align: center;">  <p>تعداد ضلع : تعداد گوشه :</p> </div> <div style="text-align: center;">  <p>تعداد ضلع : تعداد گوشه :</p> </div> </div>	۹
	<p>تفاوت و شباهت شکل های زیر را بنویسید .</p> <div style="display: flex; justify-content: space-around; align-items: center;"> <div style="text-align: center;">  <p>(۱)</p> </div> <div style="text-align: center;">  <p>(۲)</p> </div> <div style="margin-left: 20px;"> <p>تفاوت :</p> <p>شباهت :</p> </div> </div>	۱۰

	<p>عددهای زیر را به صورت باز شده بنویسید .</p> <p>الف) $۵۶۴ = \dots\dots\dots$</p> <p>ب) $۸۹۹ = \dots\dots\dots$</p>	۱۱
	<p>معین یک کیسه ی آجیل دارد که شامل ۸۰ بادام ، ۶۰ پسته و ۱۰۰ تخمه کدو است . اگر معین بخواهد بدون نگاه کردن به داخل کیسه ، بادام در بیاورد احتمال آن چقدر است و دلیل خود را توضیح دهید .</p> <p>.....</p>	۱۲
	<p>برای شکل های زیر کسر بنویسید .</p>  <p>.....</p>	۱۳
	<p>جاهای خالی را کامل کنید .</p> 	۱۴



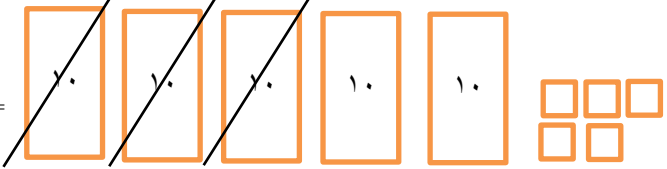
تعداد درخت های کاج در چند خیابان شهر تهران شمرده شده است. این عددها به صورت تقریبی نوشته شده اند. اگر هر ۱۰ درخت را با  نشان دهیم ، جدول را کامل کنید .

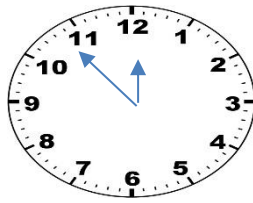
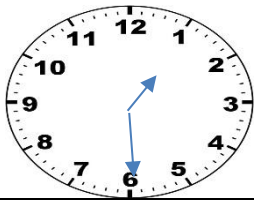
نمودار تصویری	تعداد درخت ها	نام خیابان
	۴۰	ولیعصر
	۳۰	چیتگر
	۶۰	تجریش

۱۵

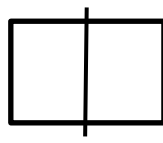
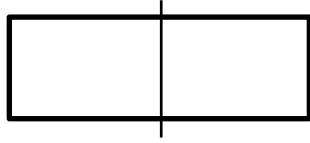
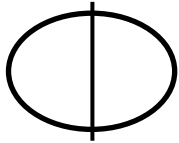
صفحه ی ۴ از ۴

نمونه سوال امتحانی		سوالات درس: ریاضی
پایه دوم ابتدایی		مدت امتحان: 30 دقیقه
منبع دانلود: قلم چی		برگزار شده در: تهران

ردیف	راهنمای تصحیح	محل مهر یا امضاء مدیر															
۱	$۱۲ + ۱۲ + ۱۲ = ۳۶$ جلونویسی: علی ۳۶ مداد رنگی دارد.																
۲		$۶۴ - ۴۴ - ۶۶ - ۴۶$ <table style="margin-left: auto; margin-right: auto;"> <tr> <td></td> <td>ده</td> <td>ی</td> </tr> <tr> <td></td> <td>۴</td> <td>۶</td> </tr> <tr> <td></td> <td>۶</td> <td>۶</td> </tr> <tr> <td></td> <td>۶</td> <td>۴</td> </tr> <tr> <td></td> <td>۴</td> <td>۴</td> </tr> </table>		ده	ی		۴	۶		۶	۶		۶	۴		۴	۴
	ده	ی															
	۴	۶															
	۶	۶															
	۶	۴															
	۴	۴															
۳	عدد: ۵۶ حروف: پنجاه و شش																
۴		$۸ + ۷ =$  $۳۰ - ۵۵ =$ 															
۵		$۵ + ۰ = ۵$ $۴ + ۱ = ۵$ $۳ + ۲ = ۵$ $۲ + ۳ = ۵$ $۳ + ۲ = ۵$ $۴ + ۱ = ۵$															
۶		$۲۳ + ۳۲ =$ <table style="margin-left: auto; margin-right: auto;"> <tr><td>۳۲</td></tr> <tr><td>+۲۳</td></tr> <tr><td>—</td></tr> <tr><td>۵۲</td></tr> <tr><td>+ ۳</td></tr> <tr><td>—</td></tr> <tr><td>۵۵</td></tr> </table> $۳۲ - ۵۶ =$ <table style="margin-left: auto; margin-right: auto;"> <tr><td>۵۶</td></tr> <tr><td>-۳۲</td></tr> <tr><td>—</td></tr> <tr><td>۲۴</td></tr> <tr><td>- ۲</td></tr> <tr><td>—</td></tr> <tr><td>۲۴</td></tr> </table>	۳۲	+۲۳	—	۵۲	+ ۳	—	۵۵	۵۶	-۳۲	—	۲۴	- ۲	—	۲۴	
۳۲																	
+۲۳																	
—																	
۵۲																	
+ ۳																	
—																	
۵۵																	
۵۶																	
-۳۲																	
—																	
۲۴																	
- ۲																	
—																	
۲۴																	



۷



۸

دایره : ضلع و گوشه ندارد مربع: چهار گوشه و چهار ضلع دارد . مثلث: سه ضلع و سه گوشه دارد.

۹

تفاوت : ۱- در شکل اول اندازه ی ضلع ها برابر است ولی در شکل دوم فقط ضلع های روبه رو برابر هستند .
شباهت : ۱- هر دو شکل هندسی هستند . ۲- هر دو چهار گوشه و چهار ضلع دارند .

۱۰

الف) $۲۵ = ۳۰$
ب) $۸۲ = ۸۰$
پ) $۶۵ = ۷۰$

۱۱

$۳۲ + ۵۶ =$ $۶۰ + ۳۰ = ۹۰$
 $۲۴ - ۸۸ =$ $۲۰ - ۹۰ = ۷۰$

۱۲

یک قسمت از دو قسمت مساوی رنگ شده است .

۱۳



۱۴

نمودار تصویری	تعداد درخت	نام خیابان
	۴۰	ولیعصر
	۳۰	چیتگر
	۶۰	تجربش

۱۵

امضاء:

نام و نام خانوادگی مصحح :

