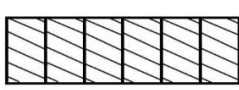
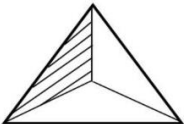
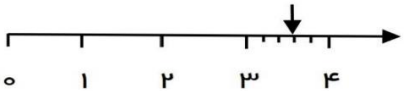



نمونه سوال امتحانی		سوالات درس: ریاضی
پایه سوم ابتدایی		مدت امتحان: 90 دقیقه
منبع دانلود: قلم چی		برگزار شده در: تهران

محل مهر و امضاء مدیر	نمره به عدد:	نمره به حروف:																						
	نمره تجدید نظر به عدد:	نمره به حروف:																						
نام دبیر:		نام دبیر:																						
تاریخ و امضاء:		تاریخ و امضاء:																						
ردیف	سؤالات	نوع																						
	<p>جاهای خالی را با کلمات مناسب پر کنید.</p> <p>۲۱۶ میلی‌متر یعنیمتر وسانتی‌متر.</p> <p>۷ کیلومتر یعنیمتر (یاتا ۱۰۰متر)</p> <p>۴۲۰۸ گرم یعنیکیلوگرم و.....گرم.</p> <p>مثلی که سه ضلع مساوی دارد.....نام دارد.</p> <p>ربع عدد ۲۴ می‌شود.....</p> <p>حاصل ضرب هر عدد در یک برابراست با</p> <p>شعاعقطر است.</p> <p>خط هاییکدیگر را قطع نمی‌کنند.</p>	۱																						
	<p>جدول های زیر را با اعداد مناسب پر کنید.</p> <div style="display: flex; align-items: center; justify-content: center;"> <table border="1" style="margin-right: 20px;"> <tr><td>۶۴</td></tr> <tr><td> </td></tr> <tr><td> </td></tr> <tr><td> </td></tr> </table> $\xrightarrow{\div 8}$ <table border="1" style="margin-right: 20px;"> <tr><td> </td></tr> <tr><td> </td></tr> <tr><td>۷</td></tr> <tr><td> </td></tr> </table> $\xrightarrow{+7}$ <table border="1"> <tr><td> </td></tr> <tr><td>۱۳</td></tr> <tr><td> </td></tr> <tr><td>۱۰</td></tr> </table> </div> <table border="1" style="margin-left: 20px; margin-top: 10px;"> <tr> <td>زمان</td> <td>۲۳:۲۰</td> <td> </td> <td>۱۸</td> <td> </td> </tr> <tr> <td>بعدازظهر</td> <td> </td> <td>۹:۰۹</td> <td> </td> <td>۲:۲۲</td> </tr> </table>	۶۴						۷			۱۳		۱۰	زمان	۲۳:۲۰		۱۸		بعدازظهر		۹:۰۹		۲:۲۲	۲
۶۴																								
۷																								
۱۳																								
۱۰																								
زمان	۲۳:۲۰		۱۸																					
بعدازظهر		۹:۰۹		۲:۲۲																				
	<p>با توجه به عدد داده شده به سوالات زیر پاسخ دهید.</p> <p>۵۹۰۸</p>	<p>الف : عدد را در جدول ارزش مکانی قرار دهید.</p> <p>ب : گسترده‌ی عدد را بنویسید.</p> <p>ج : بزرگ ترین رقم دارای چه مرتبه ای است ؟</p> <p>د : کدام رقم دارای کمترین مرتبه است ؟</p>	۳																					
	<div style="display: flex; justify-content: space-around; align-items: center;"> <div style="text-align: center;">  <p>.....</p> </div> <div style="text-align: center;">  <p>.....</p> </div> <div style="text-align: center;">  <p>.....</p> </div> </div>	<p>کسر مربوط به هر شکل را بنویسید.</p>	۴																					

برای شکل های زیر عملیات های خواسته شده را بنویسید.



الف : جمع آن را بنویسید.

.....+.....+.....+.....+.....+.....+.....+.....=.....

ب : دو تساوی ضرب و دو تساوی تقسیم بنویسید.

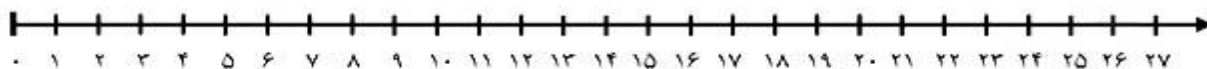
.....×.....=.....

.....÷.....=.....

.....×.....=.....

.....÷.....=.....

ج : تساوی ضرب را روی محور نشان بده.



۵

حاصل جمع و تفریق زیر را بنویسید.

$$\begin{array}{r} 4652 \\ + 3247 \\ \hline \end{array}$$



$$\begin{array}{r} 5802 \\ - 2369 \\ \hline \end{array}$$



۶

مقایسه کنید و علامت <=> بگذارید.

$\frac{2}{5} \bigcirc \frac{4}{5}$ ♥

$2000 + 2500 \bigcirc 1500 + 3000$ ♥

$\frac{1}{6} \bigcirc \frac{1}{4}$

۷

$4 \times 1 \bigcirc 8 \times 0$ ♥

نصف \bigcirc نیم ♥

$24 \div 4 \bigcirc 15 \div 3$ ♥

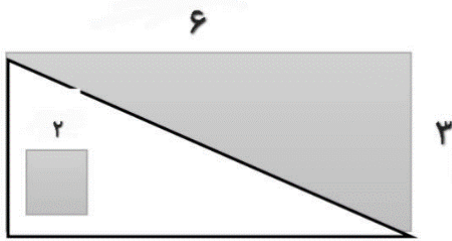
$30 \times 30 \bigcirc 60 \times 10$

باغچه ای مستطیل شکل به طول ۸ متر و عرض ۴ متر و باغچه ای مربع شکل به ضلع ۶ متر داریم. می خواهیم

دور تا دور آن ها را نرده بکشیم. برای دور آن ها به چند متر نرده نیاز داریم ؟

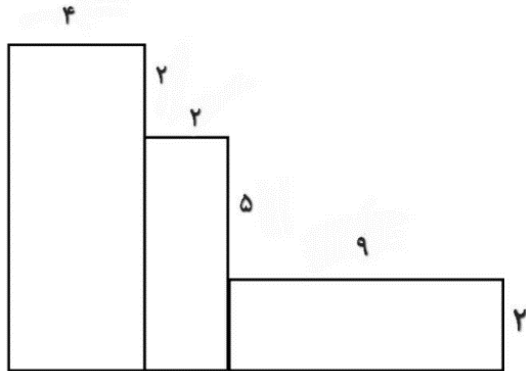
۸

مساحت قسمت های رنگ شده را حساب کنید.



۹

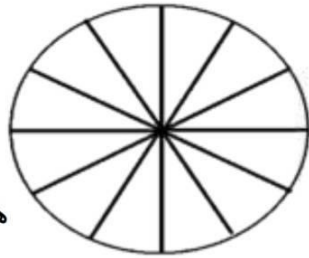
محیط شکل زیر را به دست آورید.



۱۰

در باغ مشهدی رضا درختان زیر کاشته شده است. با توجه به جدول نمودارها را کامل کنید.

درخت	زردآلو	سیب	گیلاس	هلو	گلابی
تعداد	۱۵	۲۰	۵	۱۰	۱۰



هر قسمت = ۵ درخت



۱۱

حاصل ضرب و تقسیم زیر را به دست آورید.

$$\begin{array}{r} 236 \\ \times 4 \\ \hline \end{array}$$

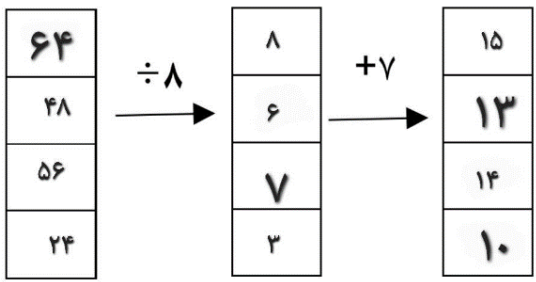

$$\begin{array}{r} 32 \quad | \quad 6 \\ \hline \end{array}$$

۱۲

قیمت ۴ کیک و ۳ آبمیوه ۴۵۰۰ تومان است. اگر قیمت هر کیک ۹۰۰ تومان باشد، قیمت هر آبمیوه چقدر

است؟ و چند ریال است؟

۱۳

محل مهر یا امضاء مدیر	راهنمای تصحیح	ردیف										
	<p>۲ متر و ۱۶ سانتی متر ۷۰۰۰ متری یا ۷۰ تا ۱۰۰ متر ۴ کیلو گرم و ۲۰۸ گرم متساوی الاضلاع ۶ خود عدد نصف موازی</p>	۱										
	<table border="1" data-bbox="670 974 1388 1131"> <tr> <td>زمان</td> <td>۲۳:۲۰</td> <td>۲۱:۰۹</td> <td>۱۸</td> <td>۱۴:۲۲</td> </tr> <tr> <td>بعد از ظهر</td> <td>۱۱:۲۰</td> <td>۹:۰۹</td> <td>۶</td> <td>۲:۲۲</td> </tr> </table>	زمان	۲۳:۲۰	۲۱:۰۹	۱۸	۱۴:۲۲	بعد از ظهر	۱۱:۲۰	۹:۰۹	۶	۲:۲۲	۲
زمان	۲۳:۲۰	۲۱:۰۹	۱۸	۱۴:۲۲								
بعد از ظهر	۱۱:۲۰	۹:۰۹	۶	۲:۲۲								
<table border="1" data-bbox="406 1265 790 1355"> <tr> <td>یکان</td> <td>دهگان</td> <td>صدگان</td> <td>هزارگان</td> </tr> <tr> <td>۸</td> <td>۰</td> <td>۹</td> <td>۵</td> </tr> </table>	یکان	دهگان	صدگان	هزارگان	۸	۰	۹	۵	<p>الف : ب : $۵۰۰۰+۹۰۰+۸$ ج : صدگان د : ۸</p>	۳		
یکان	دهگان	صدگان	هزارگان									
۸	۰	۹	۵									
$\frac{6}{6} = 1$	$\frac{1}{3}$	$\frac{3}{5}$ و ۳										
	<p>الف : $۳+۳+۳+۳+۳+۳+۳+۳=۲۴$ ب : $۸ \times ۳ = ۲۴$ $۲۴ \div ۸ = ۳$ $۲۴ \div ۳ = ۸$</p>	۵										

$$\begin{array}{r} 236 \\ \times 4 \\ \hline 944 \end{array}$$

$$\begin{array}{r} 582 \\ - 2369 \\ \hline 3433 \end{array}$$

6

$\frac{2}{5} < \frac{4}{5}$ ♥ $2000 + 2500 = 1500 + 3000$ ♥ $\frac{1}{6} < \frac{1}{4}$
 $4 \times 1 > 8 \times 0$ ♥ نصف = نیم ♥ $24 \div 4 > 15 \div 3$ ♥ $30 \times 30 > 60 \times 10$

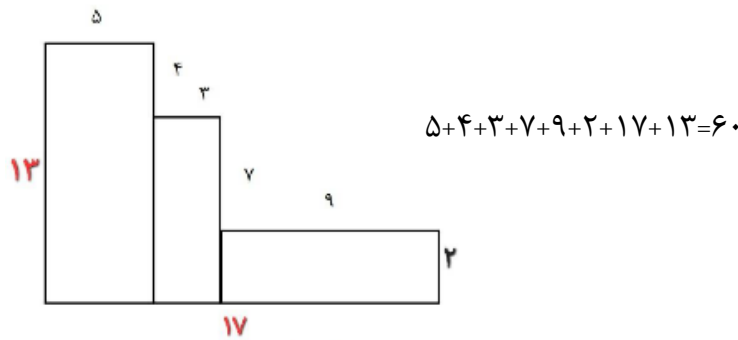
7

$16 + 8 = 23$ $4 \times 2 = 8$ $2 \times 8 = 16$
 31 متر نرده نیاز داریم $23 + 8 = 31$ $4 \times 6 = 8$

8

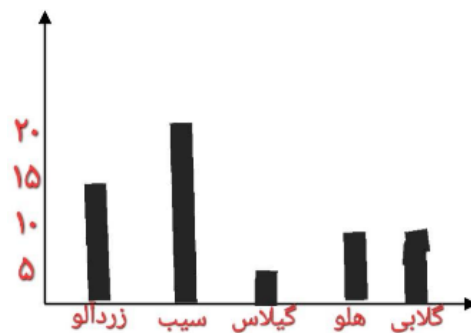
$2 \times 2 = 4$ $18 \div 2 = 9$ $3 \times 6 = 18$
 $9 + 4 = 13$

9



10

درخت	زردآلو	سیب	گیلاس	هلو	گلابی
تعداد	15	20	5	10	10



11

$$\begin{array}{r} 236 \\ \times 4 \\ \hline 944 \end{array}$$

$$\begin{array}{r} 32 \\ - 30 \\ \hline 02 \end{array} \quad \begin{array}{r} 6 \\ 5 \end{array}$$

12

$900 \div 3 = 300$ تومان قیمت هر آبمیوه $4500 - 3600 = 900$ $900 \times 4 = 3600$ 13
 ریال 3000