

نمونه سوال امتحانی	 Mianborplus Academy آکادمی ریاضی میانبرپلاس	سوالات درس: ریاضی
پایه سوم ابتدایی		مدت امتحان: 45 دقیقه
منبع دانلود: قلم چی		برگزار شده در: رفسنجان

سوالات

۱ - بزرگترین و کوچکترین عدد چهار رقمی بدون تکرار را بنویسید و اختلاف آنها را به دست آورید.
 ۲ - در دایره علامت \leq بگذارید.

(۱) ۲ کیلوگرم و ۸۰۰ گرم _____ گرم ۲۸۰۰

(۲) ۶ سانتی متر و ۲۵ میلی متر _____ ۷ سانتی متر

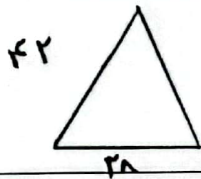
(۳) ۱۰۰۰ تومان _____ ۹۸۹ ریال

(۴) $\frac{2}{5}$ _____ $\frac{2}{3}$

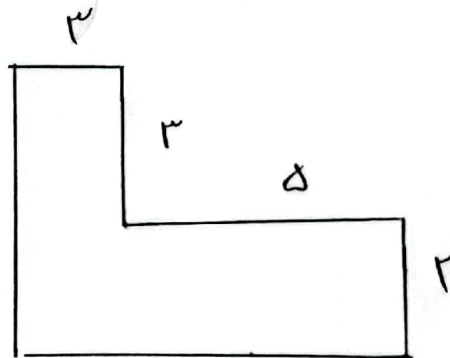
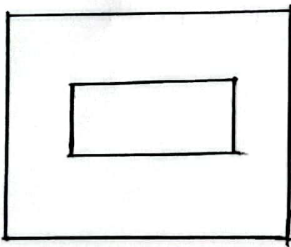
(۵) $\frac{4}{3}$ _____ ۱

(۶) $\frac{4}{7}$ _____ $\frac{3}{5}$

۳ - محیط مثلث متساوی الساقین زیر را به دست آورید.



۴ - مساحت قسمت رنگ شده شکل زیر به دست آورید.



۵ - ضرب سمت چپ را به صورت فرایندی حل کنید و حاصل ضرب های سمت راست را به صورت تقریبی بنویسید.

$$۱۸ \times ۳۲ =$$


$$۵۷ \times ۲۹ =$$

$$\begin{array}{r} \times ۶۴۳ \\ ۲ \\ \hline \end{array}$$

۶ - برای تقسیم $۵۶ \div ۷$ یک مسئله بنویسید.

۷ - فاطمه ۶ بسته ده تایی شکلات را به طور مساوی بین ۷ نفر از دوستانش تقسیم کرد.
الف) به هر نفر چند شکلات میرسد؟
ب) شکلات باقی می ماند؟

۸ - نام (الف ب) را در هر قسمت بنویسید.



۹ - کتاب فروش تعدادی کتاب های فروخته شده در روزهای مختلف هفته را در جدول زیر ثبت کرده است آنها را روی نمودار ستونی نشان دهید.

روز	شنبه	یکشنبه	دوشنبه	سه شنبه	چهارشنبه	پنجشنبه
تعداد	۳۰	۱۰	۱۵	۵	۱۰	۲۵

الف) چه روزی بیشترین کتاب فروخته است؟
 ب) چه روزهایی به تعداد مساوی فروخته است؟
 ج) چه روزی کمتری کتاب فروخته است؟

۱۰ - جاهای خالی را با عدد مناسب پر کنید.
 $91 \times 7 = (\quad \times 7) + (2 \times 7)$ (الف)

ب) $(4 \times 5) - (7 \times 3) = \quad - \quad = \quad$

ج) $20 \times 50 = \quad$

د) $300 \times 90 = \quad$

ارزش دانش در عمل به آن است.

سوالات

1- کوچکترین: $۱۰۲۳ / ۹۸۷۶$ بزرگترین: ۹۸۷۶
 $۹۸۷۶ \cdot ۱۰۲۳ = ۸۸۵۳$
 $(2-1) = (2) < (3) < (4) < (5) = (6) >$

$۴۲ \times ۲ = ۸۴$
 $۲۸ + ۸۴ = ۱۱۲$

4- س م م $۶ \times ۶ = ۳۶$ شکل اول
 س م م $۲ \times ۴ = ۸$
 س م م $۳۶ - ۸ = ۲۸$

شکل دوم
 س م م $۲ \times ۸ = ۱۶$
 س م م $۳ \times ۳ = ۹$
 س م م $۱۶ + ۹ = ۲۵$

5- ۸۰۰
 ۱۲۰

۹۲۶
 $۲ \times ۴۰۰ = ۸۰۰$
 $۲ \times ۶۰ = ۱۲۰$
 $۲ \times ۳ = ۶$
 $۲۰ \times ۳۰ = ۶۰۰$
 $۶۰ \times ۳۰ = ۱۸۰۰$

6- دکمه $۵۶ \div ۷ = ۸$ سارا ۵۶ دکمه دارد می خواهد به ۷ پیراهن بدوزد به هر پیراهن چند دکمه باید بخواد؟

$۶ \times ۱۰ = ۷ - ۶۰$
 الف) ۸ ب) ۴
 $۶۰ \div ۷$

8- نیم خط / ضلع / خط تقارن / شعاع / قطر / پاره خط
 9- از طریق نمودار ستونی به جواب میرسیم. الف) شنبه ب) چهارشنبه / یکشنبه
 ج) سه شنبه

10- الف) ۷ ب) $۹ = ۲۱ - ۳۰$ ج) ۱۰۰۰ د) ۲۷۰۰۰

ارزش دانش در عمل به آن است.