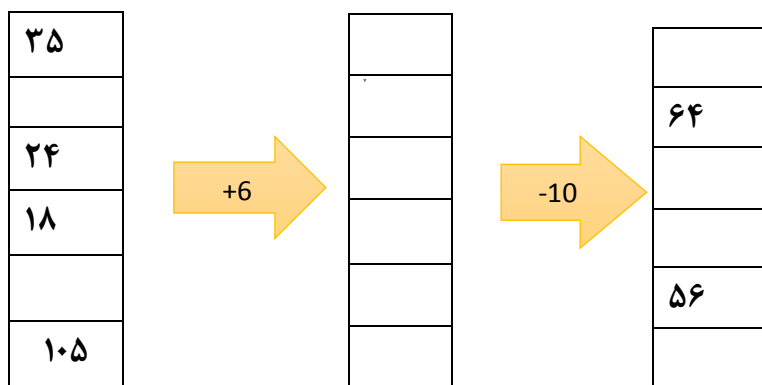


نمونه سوال امتحانی	 ميانبر پلاس آكادمي رياضي Academy	سوالات درس: ریاضی
پایه دوم ابتدایی		مدت امتحان: 45 دقیقه
منبع دانلود: قلم چی		برگزار شده در: بهشهر

مقیاس	سوال	ردیف
	<p>۱- درستی و نادرستی جمله های زیر را مشخص کنید.</p> <p>الف) نمودار تصویری، برای نمایش تعداد بسیار زیاد که رقم دقیق آن مهم نیست به کار می رود. ص □ غ □</p> <p>ب) برای اندازه گیری طول فقط از خط کش استفاده می کنیم. ص □ غ □</p>	
	<p>۲- گزینه ی صحیح را انتخاب کنید.</p> <p>الف) کدام عدد زیر فرد است؟</p> <p>□ ۵۶۰ □ ۱۱۲ □ ۷۴۱ □ ۹۱۸</p> <p>ب) اگر عقربه ی بزرگ روی ۱۰ دقیقه باشد، یک ربع بعد کجا قرار می گیرد؟</p> <p>□ ۲۰ دقیقه □ ۲۵ دقیقه □ ۱۵ دقیقه □ ۳۵ دقیقه</p>	
	<p>۳- جاهای خالی را پر کنید.</p> <p>الف) ۳۴ میلی متر یعنی سانتی متر و میلی متر</p> <p>ب) ۷ سانتی متر و ۵ میلی متر یعنی میلی متر</p> <p>ج) ۱۲ سانتی متر یعنی میلی متر</p>	
	<p>۴- به سوال زیر پاسخ کوتاه دهید</p> <p>الف) عبارت $(۷۰۰+۲۰+۴)$ باز شده ی کدام عدد است؟</p> <p>ب) با کارت های ۳، ۶ و ۴ سه عدد زوج سه رقمی بنویسید.</p> <p>ج) یک عدد سه رقمی بنویس که صدگان آن بزرگ تر از یکان و همچنین دهگان آن عدد فرد باشد.</p> <div style="border: 1px solid black; width: 100px; height: 20px; margin: 10px auto;"></div>	
	یادداشت معلم :	
	نظر اولیا :	
	مقیاس نگاره ای تو صیفی : کار خیلی خوب است و هیچ نیازی به نظارت ندارد (خ خ)- کار خوب است و به ندرت نیاز به نظارت دارد (خ ن)- کار خوب است و گاه گاه نیاز به نظارت دارد (خ گ)- کار قابل قبول است (ق ق)- کار ضعیف است (ن ن) احتیاج به نظارت دارد (ق ق) کار ضعیف است.	

۵- تعداد شرکت کنندگان در مسابقه ی نقاشی ۴۸۸ نفر و تعداد شرکت کنندگان در مسابقه ی خطاطی ۲۳۶ نفر کمتر از شرکت کنندگان مسابقه ی نقاشی است.
الف) تعداد شرکت کنندگان در مسابقه ی خطاطی چند نفر است؟
ب) تعداد شرکت کنندگان دو مسابقه روی هم چند نفر است؟

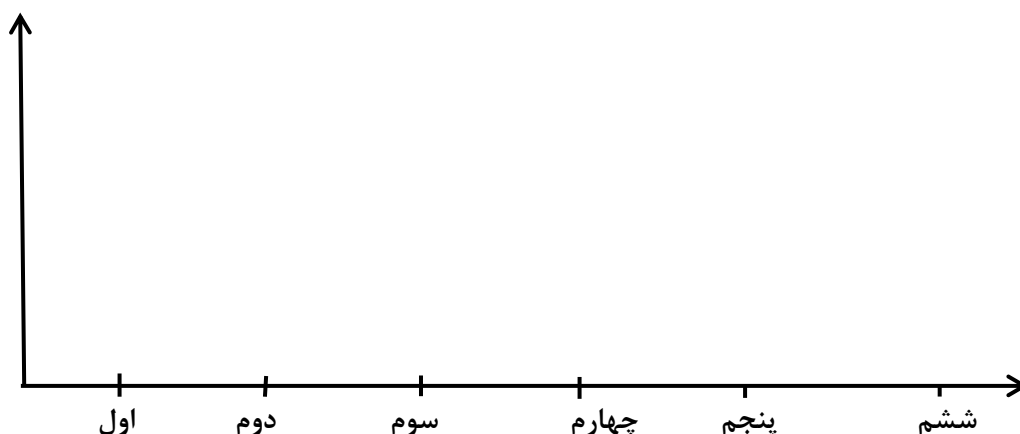
۶- ماشین ورودی و خروجی زیر را کامل کن.



۷- تعداد دانش آموزان یک مدرسه در جدول زیر آمده است. تعداد دانش موزان را به صورت تقریبی در جدول زیر بنویس و نمودار تصویری را کامل کن.

ششم	پنجم	چهارم	سوم	دوم	اول	کلاس
۵۸	۴۱	۵۲	۳۸	۲۴	۴۲	تعداد دانش آموزان
						تعداد تقریبی

• اداکش آموز =



۸- برای هر عبارت شکل مناسب بکش.

دو دسته ی ۴ تایی

پنج دسته ی سه تایی

تاریخ ۱

بسمه تعالی

پیش دبستان و دبستان غیر دولتی خوارزمی

دوم دبستان

معلم مربوطه: انسیه یوسفی ریاضه پاسنامه اردیبهشت ۱۴۰۲

۱- الف صبح (ب) غلط

۲- الف (۷۴۱) (ب) ۲۵ دقیقه

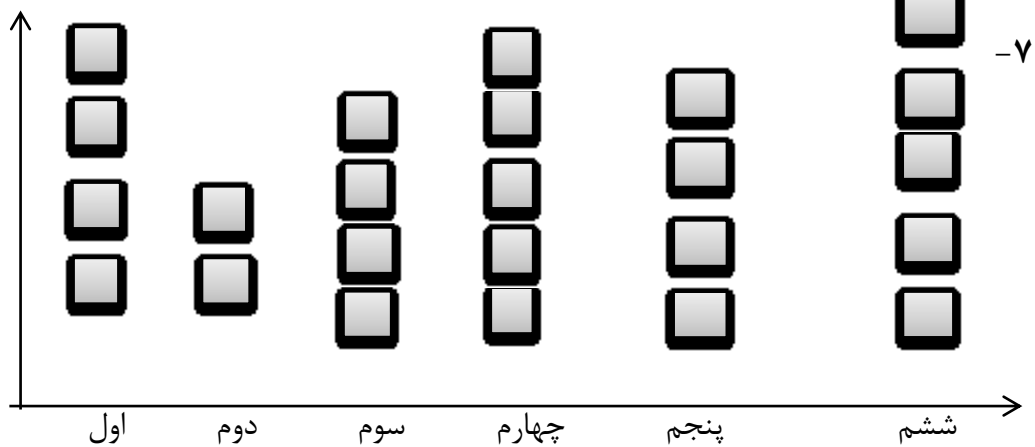
۳- الف (۳ سانتی متر و ۴ میلی متر) (ب) ۷۵ میلی متر (ج) ۱۲۰ میلی متر

۴- الف (۷۲۴) (ب) ۳۴۶ و ۳۶۴ و ۶۳۴ (ج) ۹۵۲

۵- الف (۴۸۸-۲۳۶=۲۵۲) (ب) ۴۸۸+۲۵۲=۷۴۰

۶-

۳۵	→ +۶ →	۴۱	→	۳۱
۶۸		۷۴		۶۴
۲۴		۳۰		۲۰
۱۸		۲۴		۱۴
۶۰		۶۶□		۵۶
۱۰۵		۹۹		۸۹



۸-۲ دسته ی ۴ تایی

۵ دسته ی ۳ تایی