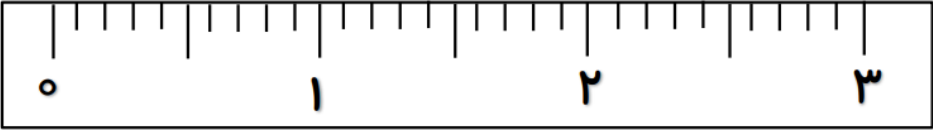
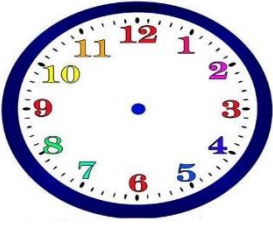


نمونه سوال امتحانی		سوالات درس: ریاضی
پایه دوم ابتدایی		مدت امتحان: 50 دقیقه
منبع دانلود: قلم چی		برگزار شده در: تهران

ردیف	سؤالات	نمره						
۱	<p>باتوجه به کارت های ۷، ۴، ۳ فعالیت های زیر را انجام دهید.</p> <p>الف) یک عدد سه رقمی زوج بنویسید.</p> <p>ب) یک عدد دو رقمی فرد بنویسید.</p> <p>پ) یک عدد سه رقمی بنویسید که مجموع یکان و صدگانش برابر با رقم دهگان آن باشد.</p>							
۲	<p>۳ میلی متر را روی واحد سانتی متر زیر نشان دهید.</p> <p>۳ میلی متر چه کسری از یک سانتی متر می باشد؟</p> 							
۳	<p>الگوهای عددی زیر را ادامه دهید.</p> <p>403 – 405 - 407 - - -</p> <p>41-44-48-53-.....--</p>							
۴	<p>آریا ساعت ۳ بیرون رفت. او یک ساعت و ربع دیگر برگشت. آریا چه ساعتی به منزل برگشته است؟ روی ساعت نشان دهید.</p> 							
۵	<p>حاصل جمع و تفریق های زیر را با روش فرایندی به دست آورید.</p> <table style="width: 100%; border: none;"> <tr> <td style="text-align: right; padding-right: 50px;">845</td> <td style="text-align: right;">567</td> </tr> <tr> <td style="text-align: right;">_ 423</td> <td style="text-align: right;">+ 132</td> </tr> <tr> <td style="text-align: right;">_____</td> <td style="text-align: right;">_____</td> </tr> </table>	845	567	_ 423	+ 132	_____	_____	
845	567							
_ 423	+ 132							
_____	_____							

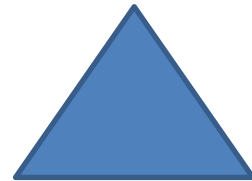

	<p>امیرحسین ۴ سکه ی ۱۰۰ ریالی، ۵ سکه ی ۱۰ ریالی و ۶ سکه ی ۱ ریالی داشت. او ۲۶۴ ریال در صندوق صدقات انداخت. حالا او چند ریال دارد؟ (با روش انتقالی حل کنید).</p>	۶
	<p>در داخل کیسه ای ۷ تپله ی قرمز و ۵ تپله ی آبی است. الف)..... قسمت از قسمت، قرمز است. ب)..... قسمت از قسمت، آبی است. پ) اگر یک تپله از داخل کیسه بیرون بیاوریم، احتمال اینکه کدام رنگ در بیاید بیشتر است؟ </p>	۷
<div data-bbox="209 734 612 965" data-label="Image"> </div>	<p>دو هدف تیراندازی زیر را در نظر بگیرید. الف) چند قسمت از هدف رنگ نشده است؟..... ب) چند قسمت از هدف رنگ شده است؟..... پ) در کدام هدف احتمال این که تیر به قسمت رنگ شده بخورد، بیشتر است؟ چرا؟ </p>	۸
<div data-bbox="199 1328 427 1482" data-label="Image"> </div> <p>..... قسمت از قسمت</p>	<p>جمله ها را با نوشتن عدد مناسب کامل کنید و نشان دهید چه بخشی از شکل رنگ شده است.</p> <div data-bbox="564 1296 954 1482" data-label="Image"> <p>..... قسمت از قسمت</p> </div> <div data-bbox="1187 1328 1417 1482" data-label="Image"> <p>..... قسمت از قسمت</p> </div>	۹
<div data-bbox="209 1731 756 2024" data-label="Image"> <p>_____</p> </div>	<p>مقدار پول را در هر قسمت به دست آورید.</p> <div data-bbox="868 1731 1417 2024" data-label="Image"> <p>_____</p> </div>	۱۰

با سه کارت ۲، ۵، ۷ تمام عددهای سه رقمی را بنویسید.



۱۱

طول ضلع های شکل های زیر را با خط کش اندازه بگیرید و کنار هر کدام بنویسید.



۱۲

عددها را باهم مقایسه کنید و علامت مناسب $<$ $=$ $>$ بگذارید.

$467 \square 342$

$621 \square 612$

$189 \square 190$

$300+200+50 \square 300+100+50+50$

$500+400 \square 300 \square 500 \square 300+200$


۱۳

یک کتاب داستان ۴۵۶ صفحه داشت. آریا در یک هفته ۱۴۰ صفحه و در هفته ی دوم ۱۲۰ صفحه از کتاب را خواند.

الف) چند صفحه از کتاب خوانده شده است؟

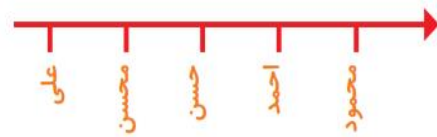
ب) چند صفحه از کتاب باقی مانده است؟

۱۴

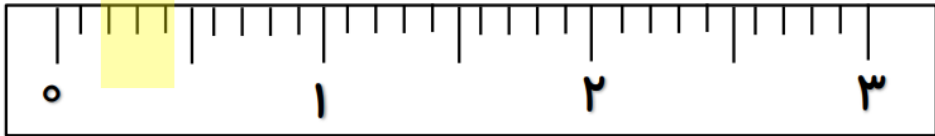

در یک روستا ۵ دانش آموز تعداد گوسفندان خود را شمردند و در کلاس اعلام کردند. آموزگار جدول زیر را درست کرد. با کامل کردن آن، نمودار تصویری تعداد گوسفندان را رسم کنید. برای هر ۱۰ گوسفند یک  بکشید.



نام دانش آموز	علی	محسن	حسن	احمد	محمود
تعداد گوسفندان	۳۱	۱۹	۴۷	۱۲	۵۲
تعداد تقریبی					



نمونه سوال امتحانی	 Mianbor plus Academy آکادمی ریاضی میانبر پلاس	سوالات درس: ریاضی
پایه دوم ابتدایی		مدت امتحان: 50 دقیقه
منبع دانلود: قلم چی		برگزار شده در: تهران

ردیف	راهنمای تصحیح	محل مهر یا امضاء مدیر								
۱	الف) 734 ب) 47-37 ج) 473									
۲	 ب) سه قسمت از ۱۰ قسمت مساوی									
۳										
۴	<table style="width: 100%; border: none;"> <tr> <td style="width: 50%; border: none;"> $\begin{array}{r} 845 \\ - 423 \\ \hline \end{array}$ </td> <td style="width: 50%; border: none;"> $\begin{array}{r} 567 \\ + 132 \\ \hline \end{array}$ </td> </tr> <tr> <td style="border: none;"> $\begin{array}{r} 445 \\ - 23 \\ \hline \end{array}$ </td> <td style="border: none;"> $\begin{array}{r} 667 \\ + 32 \\ \hline \end{array}$ </td> </tr> <tr> <td style="border: none;"> $\begin{array}{r} 425 \\ - 3 \\ \hline \end{array}$ </td> <td style="border: none;"> $\begin{array}{r} 697 \\ + 2 \\ \hline \end{array}$ </td> </tr> <tr> <td style="border: none;"> $\begin{array}{r} 422 \\ \hline \end{array}$ </td> <td style="border: none;"> $\begin{array}{r} 699 \\ \hline \end{array}$ </td> </tr> </table>	$\begin{array}{r} 845 \\ - 423 \\ \hline \end{array}$	$\begin{array}{r} 567 \\ + 132 \\ \hline \end{array}$	$\begin{array}{r} 445 \\ - 23 \\ \hline \end{array}$	$\begin{array}{r} 667 \\ + 32 \\ \hline \end{array}$	$\begin{array}{r} 425 \\ - 3 \\ \hline \end{array}$	$\begin{array}{r} 697 \\ + 2 \\ \hline \end{array}$	$\begin{array}{r} 422 \\ \hline \end{array}$	$\begin{array}{r} 699 \\ \hline \end{array}$	
$\begin{array}{r} 845 \\ - 423 \\ \hline \end{array}$	$\begin{array}{r} 567 \\ + 132 \\ \hline \end{array}$									
$\begin{array}{r} 445 \\ - 23 \\ \hline \end{array}$	$\begin{array}{r} 667 \\ + 32 \\ \hline \end{array}$									
$\begin{array}{r} 425 \\ - 3 \\ \hline \end{array}$	$\begin{array}{r} 697 \\ + 2 \\ \hline \end{array}$									
$\begin{array}{r} 422 \\ \hline \end{array}$	$\begin{array}{r} 699 \\ \hline \end{array}$									
۵	$\begin{array}{r} 456 \\ - 264 \\ \hline \end{array}$ $\begin{array}{r} 192 \\ \hline \end{array}$									
۶	الف) ۷ قسمت از ۱۲ قسمت، قرمز است.									

ب) ۵ قسمت از ۱۲ قسمت، آبی است.
پ) تیله ی قرمز چون تعداد تیله های قرمز بیشتر است.

الف) ۴ قسمت از ۱۲ قسمت رنگ نشده است.
ب) ۴ قسمت از ۱۲ قسمت رنگ شده است.
پ) هر دو زیرا تعدادشان باهم برابر است.

از سمت چپ به راست:
۱ قسمت از ۴ قسمت.
۴ قسمت از ۸ قسمت.
۳ قسمت از ۸ قسمت.


444 - 43 - 650 - 460 -

از سمت چپ به راست:

257-572-725-

الف) ۵ سانتی متر - ۴ سانتی متر.
ب) ۵ سانتی متر.

467  342


621  612

189  190

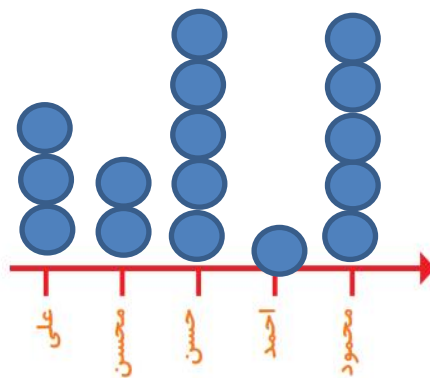
300+200+50  300+100+50+50

500+400_300  500_300+200

الف) آریا ۱۶۰ صفحه از کتاب را خوانده است.
ب) ۲۶۹ صفحه از کتاب خوانده نشده است.



نام دانش آموز	علی	محسن	حسن	احمد	محمود
تعداد گوسفندان	۳۱	۱۹	۴۷	۱۲	۵۲
تعداد تقریبی	<input type="text"/>	<input type="text"/>	<input type="text"/>	<input type="text"/>	<input type="text"/>



امضاء:

نام و نام خانوادگی مصحح :