

نمونه سوال امتحانی	 ميانبرپلاس آكادمي رياضي	سوالات درس: ریاضی
پایه دوم ابتدایی		مدت امتحان: 50 دقیقه
منبع دانلود: قلم چی		برگزار شده در: ---

۱- ارزش سگه ها را بنویس.



..... ریال

۲- جمع و تفریق را به صورت تکنیکی (انتقال) انجام بده.

$$\begin{array}{r}
 456 \\
 + \\
 \hline
 185 \\
 \hline
 \end{array}$$

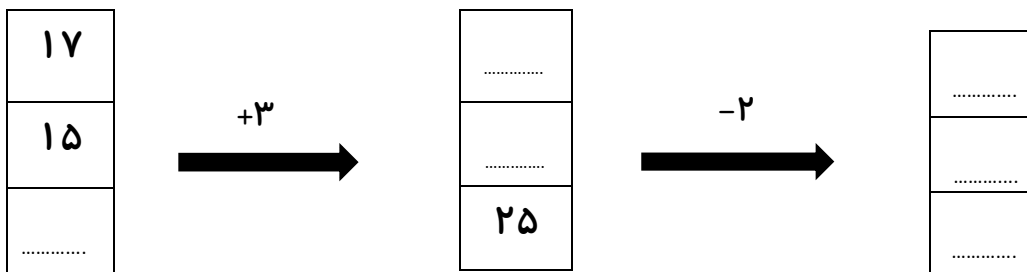
$$\begin{array}{r}
 790 \\
 - \\
 \hline
 248 \\
 \hline
 \end{array}$$

۳- ابتدا عدد ها را به صورت تقریبی بنویس، سپس عدد های تقریبی را جمع و تفریق کن.

$$\begin{array}{r}
 61 \longrightarrow \dots\dots\dots \\
 - \\
 25 \longrightarrow \dots\dots\dots \\
 \hline
 \hline
 \end{array}$$

$$\begin{array}{r}
 48 \longrightarrow \dots\dots\dots \\
 + \\
 13 \longrightarrow \dots\dots\dots \\
 \hline
 \hline
 \end{array}$$

۴- جاهای خالی را کامل کن.



۵- رضا ۲۵۰ ریال از پول خود را خرج کرد. اگر رضا ۵۴۰ ریال پول داشته باشد، چند ریال از پول او باقی مانده است؟

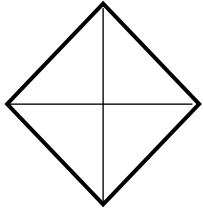
۶- جملات را کامل کنید.



..... دسته ی تایی می شود

..... دسته ی تایی می شود

۷- کامل شود.



۲ قسمت از ۴ قسمت مساوی



..... قسمت از قسمت مساوی

۸- در جای خالی علامت < = > قرار دهید.

۳۳۹ ○ ۷۶۳

۲۰۰ + ۲۰ + ۷ ○ ۲۲۷

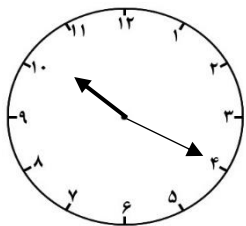
۴۱۴ ○ ۱۴۱

۵۰ + ۵۰ + ۱۰۰ + ۳ ○ ۲۰۰ + ۲۰ + ۵

۹- الگوهای زیر را ادامه بده.

..... و و و و و ۱۳۸ و ۱۳۶ و ۱۳۴ و ۱۳۲

..... و و و و و ۶۵ و ۶۰ و ۵۵



۱۰- ساعت چند است ؟

..... دقیقه از گذشت.

نیم ساعت بعد ساعت چند است ؟

۱۱- جمع و تفریق های زیر را فرآیندی انجام بده.

$$\begin{array}{r} 457 \\ + \\ 221 \\ \hline \end{array}$$

$$\begin{array}{r} 532 \\ - \\ 221 \\ \hline \end{array}$$

۱۲- با سه کارت که روی هر کدام یکی از رقم های ۳ - ۵ - ۸ نوشته شده است ، تمام عددهای سه رقمی را که می توان ساخت را بنویس . دور بزرگترین عدد دایره بکش.

۳	۵	۸
---	---	---

۱۳- پاسخ بده.

۹ سانتی متر یعنی میلی متر

۵ سانتی متر و ۸ میلی متر یعنی میلی متر

۱۹ میلی متر یعنی سانتی متر و میلی متر

۱۴- اعداد زیر را به رقم و حروف بنویس.

پانصد و هفتاد ۶۰۲

ششصد و نود و یک ۹۴۰

خیلی کم	کم	متوسط	تسلط خوب	تسلط کامل	سطوح عملکرد ملاک و شواهد
					شناخت ارزش پول
					جمع و تفریق تکنیکی
					تقریب اعداد سه رقمی
					جدول جمع و تفریق دو رقمی
					حل مسئله
					مفهوم ضرب
					مفهوم تساوی کسر
					تشخیص <=>
					الگوی عددی
					شناخت ساعت
					شناخت سانتی متر و میلی متر
					ساخت اعداد سه رقمی
					جمع و تفریق قرآیندی
					به رقم و حروف نویسی

سربلند باشی عزیزم



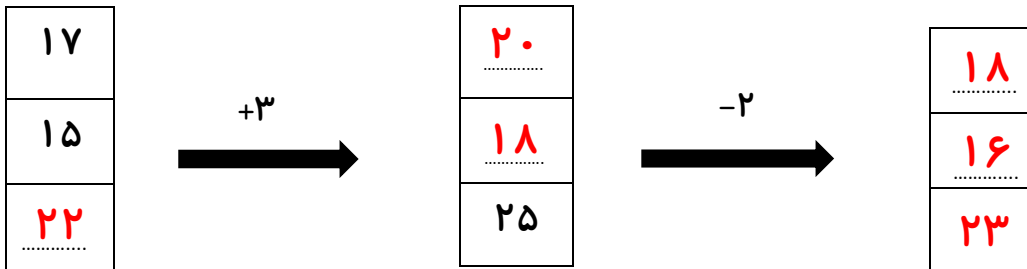
۱- ۳۶۲ ریال

$$\begin{array}{r}
 456 \\
 + \\
 \hline
 185 \\
 \hline
 641
 \end{array}$$

$$\begin{array}{r}
 790 \\
 - \\
 \hline
 248 \\
 \hline
 542
 \end{array}$$

$$\begin{array}{r}
 61 \longrightarrow \dots\dots\dots 60 \\
 - \\
 25 \longrightarrow \dots\dots\dots 30 \\
 \hline
 \hline
 \dots\dots\dots 30
 \end{array}$$

$$\begin{array}{r}
 48 \longrightarrow \dots\dots\dots 50 \\
 + \\
 13 \longrightarrow \dots\dots\dots 10 \\
 \hline
 \hline
 \dots\dots\dots 60
 \end{array}$$



$$\begin{array}{r}
 540 \\
 - \\
 250 \\
 \hline
 290
 \end{array}$$

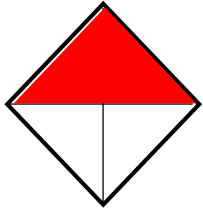
۲۹۰ ریال برایش باقی مانده است

۶- جملات را کامل کنید.



..... ۳ دسته ی ۵ تایی می شود ۱۵
 ۵ دسته ی ۳ تایی می شود ۱۵

۷- کامل شود.



۲ قسمت از ۴ قسمت مساوی



..... ۳ قسمت از ۸ قسمت مساوی

۸-

۳۳۹ $<$ ۷۶۳

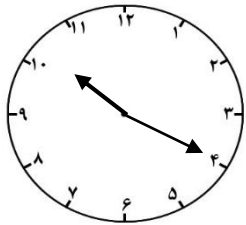
۲۰۰ + ۲۰ + ۷ $=$ ۲۲۷

۴۱۴ $>$ ۱۴۱

۵۰ + ۵۰ + ۱۰۰ + ۳ $<$ ۲۰۰ + ۲۰ + ۵

۹-

..... و ۱۴۸ و ۱۴۶ و ۱۴۴ و ۱۴۲ و ۱۴۰ و ۱۳۸ و ۱۳۶ و ۱۳۴ و ۱۳۲
 و ۹۰ و ۸۵ و ۸۰ و ۷۵ و ۷۰ و ۶۵ و ۶۰ و ۵۵



۱۰- ساعت چند است ؟ ۱۰ : ۲۰

..... ۲۰ دقیقه از ۱۰ گذشته

نیم ساعت بعد ساعت چند است ؟ ۱۰ : ۵۰

۱۱- جمع و تفریق های زیر را فرآیندی انجام بده.

$$\begin{array}{r} 457 \\ + \\ 221 \\ \hline 657 \\ + \\ 21 \\ \hline 677 \\ + \\ 1 \\ \hline 678 \end{array}$$

$$\begin{array}{r} 532 \\ - \\ 221 \\ \hline 332 \\ - \\ 21 \\ \hline 312 \\ - \\ 1 \\ \hline 311 \end{array}$$

۱۲- با سه کارت که روی هر کدام یکی از رقم های ۳ - ۵ - ۸ نوشته شده است ، تمام عددهای سه رقمی را که می توان ساخت را بنویس . دور بزرگترین عدد دایره بکش.

۳	۵	۸
---	---	---

۳۵۸-۳۸۵-۵۳۸-۵۸۳-۸۳۵-۸۵۳

۱۳- پاسخ بده.

۹۰ میلی متر ۹ سانتی متر یعنی

۵۸ میلی متر ۵ سانتی متر و ۸ میلی متر یعنی

۱ سانتی متر و ۹ میلی متر ۱۹ میلی متر یعنی

۱۴- اعداد زیر را به رقم و حروف بنویس.

ششصد و دو ۶۰۲

۵۷۰ پانصد و هفتاد

نهصد و چهل ۹۴۰

۶۹۱ ششصد و نود و یک